



贵州省最全面的人事信息发布平台

贵州省 2013 年省、市、县、乡四级机关统一面向社会
公开招考公务员笔试真题及答案解析
《行政职业能力测试》
考生回忆版

贵州 163 人事网
www.gz163rsw.com



关注官方微信公众号

获取更多考试资料

本站已经水滴信用、凭安征信、中国电子认证联盟 实名认证

2013年贵州省公务员考试《行测》真题

第一部分 常识判断

1. 党的十八大报告提出“两个翻番”，到2020年实现国内生产总值（GDP）和城乡居民人均收入比2010年翻一番。下列关于“两个翻番”表述错误的是（ ）
- A. 党的十八大首次对城乡居民收入增长提出了量化目标
 - B. 到2020年我国城乡居民每人收入预计都能够实现倍增
 - C. 城乡居民人均收入翻番是GDP翻番的出发点和落脚点
 - D. 到2020年我国GDP预计将超过2000年GDP的4倍
2. 经济增长通常是指在一个较长的时间跨度上，一个国家人均产出（或人均收入）水平的持续增加。拉动经济增长的三大主要因素不包括（ ）
- A. 投资
 - B. 消费
 - C. 信贷
 - D. 出口
3. 当前下列国家中，国民用于购买食物费用占日常支出平均比重最高的是（ ）
- A. 美国
 - B. 智利
 - C. 希腊
 - D. 刚果
4. 中国是世界上稀土资源最丰富的国家，素有“稀土资源”之称，下列属于稀土的表述，错误的是（ ）
- A. 我国是稀土资源储藏大国，也是稀土产品生产、应用和出口大国
 - B. 美国是稀土的主要使用国，目前中国出口的稀土数量占全球之首
 - C. 稀土一般是以氧化物状态分离出来的，稀土的得名是因为很稀少
 - D. 我国的稀土储量占世界稀土储量的百分比近年来因开发已经下降
5. 下列诗句描写菊花的是（ ）
- A. 总被东风吹作雪，绝胜南陌碾成尘
 - B. 不要人夸好颜色，只留清气满乾坤
 - C. 一是广寒宫里种，一秋三度送天香
 - D. 寂寞东篱湿露华，依前金靥照泥沙

- 6、下列哪组词语都与中国古代科举考试有关？（ ）
- A. 蟾宫折桂、桂冠、连中三元
 - B. 问鼎中原、独占鳌头、蟾宫折桂
 - C. 连中三元、五子登科、名落孙山
 - D. 金榜题名、桂冠、独占鳌头
- 7、下列语句与出处对应错误的是（ ）
- A. 不战而屈人之兵-----《孙子兵法》
 - B. 知之为知之，不知为不知，是知也-----《韩非子》
 - C. 天时不如地利，地利不如人和-----《孟子》
 - D. 青出于蓝而胜于蓝-----《荀子》
- 8、《三国演义》开篇称：“天下大势，分久必合，合久必分”，但是这句话未必准确，因为（ ）
- A 事物的发展需以条件为背景
 - B 事物的本质不以时间为转移
 - C 事物的质变从量变开始的
 - D 矛盾双方是可以相互转化的
- 9、关于《四库全书》，下列说法错误的是（ ）
- A. 编修于乾隆时期
 - B. 反映了清代图书的全貌
 - C. 在编纂过程中纪晓岚贡献突出
 - D. 分经、史、子、集四目
10. 下列历史文化遗址位于我国最南边的是（ ）
- A. 半坡遗址
 - B. 周口店遗址
 - C. 河姆渡遗址
 - D. 大汶口遗址
11. 与我国接壤的金砖国家有（ ）
- A. 1 个
 - B. 2 个
 - C. 3 个
 - D. 4 个

12. 地震是地球上的主要自然灾害之一。下列关于地震的说法，错误的是（ ）

- A. 地震活动在时间分布上具有一定的周期性
- B. 环太平洋地震带是地球上地震最活跃的地区
- C. 里氏地震规模每增强一级，释放的能量约增加 10 倍
- D. 有纪录以来最大的一次地震是 1960 年的智利大地震，其震级为 9.5 级

13. 以下是一组古迹的图片，下列选项中国家排序与这组古迹对应关系正确的是（ ）



①



②



③



④

- A. 墨西哥—英国—智利—希腊
- B. 墨西哥—希腊—英国—智利
- C. 智利—希腊—英国—墨西哥
- D. 智利—希腊—墨西哥—英国

14. 下列行为侵犯到他人知识产权的是（ ）

- A. 甲模仿某知名作家的写作风格创作小说并以该作家名字公开发表
- B. 甲因无法分辨真假销售某高仿皮包，但未给商标权利人造成损失
- C. 甲开发“A 之 C”游戏并公开销售，但“AC”商标的权利人是乙
- D. 甲申请注册“AC 琴行”，“AC”二字与某知名电脑商标完全重合

15. 某小区内业主共有的道路被物业公司划出停车位对外出租，其效益应该归谁所有？（ ）

- A. 房地产开发商
- B. 物业公司
- C. 小区业主共有
- D. 校区所在地居委会

16. 下列哪项木有运用热胀冷缩原理（ ）

- A 医生用水银温度计给病人量体温
- B 架设电线时，两个电线杆之间的电线要略有下垂
- C 古代人在冬天往岩石缝里灌水，水结冰后膨胀使岩石碎裂
- D 夏季自行车胎不能打太足的气

17. 下列物品利用凸透镜原理的是（ ）

- A. 近视镜
- B. 显微镜目镜
- C. 汽车观后镜
- D. 带电筒反光罩

18. 下列关于隐形飞机的原理，说法错误的是（ ）

- A. 外层涂料的颜色为天蓝色或者银白色，以避免被雷达发现
- B. 除了发动机、电子设备等部件，飞机上的其他部件用透波材料来制作
- C. 改进发动机的进气道和尾喷口等所有能产生镜面反射的表面，以减少对雷达波的反射。
- D. 隐形飞机采用非金属材料或者雷达吸波材料，吸收而不是反射雷达波

19. 血浆包括各种矿物质、糖类、脂类、蛋白质、激素和维生素等。在上述各种物质中，造成血液颜色为红色的是（ ）

- A. 激素
- B. 蛋白质
- C. 糖类
- D. 维生素

20. 下列关于医学常识的说法错误的是（ ）

- A 临床上一般以红蛋白的浓度值作为诊断贫血的依据
- B 卡介苗是一种疫苗，一般在婴儿出生后接种，可以预防结核病
- C 游泳时应避免将水咽入口中，以免水通过鼻咽进入中耳引发中耳炎
- D 人体骨密度在达到峰值后会逐年下降，男性下降幅度较女性大

第二部分 言语理解与表达

21. 欧盟《传统植物药注册程序指令》大限将至，中药出口欧洲遭遇严冬，人们不禁对中药_____产生了不小的怀疑。这其中确有中药自身种植、生产加工不统一的原因，致使药效和安全性能受到国际市场_____，但究其深层原因，则与国际中药市场暗藏的利益争夺不无关系。

依次填入划横线部分最恰当的一项是（ ）

- A. 标准化排斥
- B. 现代化指责
- C. 产业化发难
- D. 国际化质疑

22. 及时纠偏，_____纠错，不仅体现一个社会的集体智慧，也是一个国家理性力量的表现。就像当初如能认识到人口问题的严重性，今天解决人口超负荷的难度就会低得多。因此，从及时纠错的现代理性角度看，适度容忍不同声音是相当必要的，多元价值的重要意义之一便是达到某种_____，以免在一个方向上走得太远而使纠错成本过大。（ ）

- A. 尽早制衡
- B. 彻底均衡
- C. 公开均势
- D. 坦诚和谐

23. 对于吸引人才，地方政府最应该做的，是营造一个适合人才流动、有利人才成长的环境与空间，而不是直接参与、甚至_____企业的人才录用过程。其实，自由、公平的竞争本身就是对人才最好的回报，足够的成长空间才是_____吸引人才、留住人才的沃土。（ ）

- A. 主导长久
- B. 干预直接
- C. 破坏长期
- D. 影响有效

24. 在知识大爆炸的今天，不少人已习惯于浅阅读，这虽在所难免，其_____也是明显的。浅阅读虽能够收获一些印象式的谈资，但_____之中透露出的是浮躁心气，很难_____为提升阅读者主体素质的扎实“文化准备”。

依次填入划横线部分最恰当的一项是（ ）

- A. 代价走马观花转换
- B. 影响浅尝辄止汲取
- C. 弊端浮光掠影沉淀
- D. 局限言谈举止锤炼

25. 负面新闻并不是永远都制造_____，从商业角度看，负面宣传在某种情况下可以_____销售，尤其是在公司和产品不知名的情况下。曾有研究者发现，如果某些书籍的作者让读者感觉，书被评为劣作却能起到相反的效果——它们的销量增加了45%。（ ）

- A. 妨害促进亲切
- B. 损失带动熟悉
- C. 悲剧刺激陌生
- D. 难题提高冷淡

26. 在多元文化语境下，出现_____的情感价值取向实属正常现象，我们充分尊重个人的情感选择。但是，过度_____情感的极端自由、极端物欲，其实会给个人的幸福带来许多内伤。

依次填入划横线部分最恰当的一项是（ ）

- A. 林林总总鼓吹
- B. 琳琅满目渲染
- C. 纷繁芜杂追逐
- D. 标新立异强调

27. 如果全球变暖导致海平面大幅上升，和其他国家一样，中国将要_____被海水淹没地区的人口，特别是长江下游河段，或者建造大坝保护地处低洼地区的沿海城市，这些都需要巨大的花费。中国和其他国家面临的挑战是限制二氧化碳的排放，从而_____全球变暖所导致的最坏结果的发生，这在未来20年里更加重要。

（ ）

- A. 转移阻止
- B. 控制避免
- C. 延缓减少
- D. 安置改变

28. 当然，想象并不是凭空_____的。丰富的想象来源于知识的广博和平时对生活深入、细致的观察。观察就要用专业的角度去关注、_____周围的事物，有意识地汲取、思索、分析，看在眼里，记在心里。（ ）

- A. 杜撰体验
- B. 虚构体味
- C. 捏造体会
- D. 臆造体察

29. 从社会学的眼光看，重复博弈的结果之一可能是博弈双方由陌生人变为熟人，甚至成为_____，并发展出超越当下经济互动关系之外的其他社会关系。假如当前的经济互动关系只不过是发生在双方之间的多种社会交往之中的一种，其他社会交往就可能_____当事人在当下博弈中的策略选择。（ ）

- A. 伙伴加快
- B. 搭档操纵
- C. 朋友影响
- D. 同僚改变

30. 龙马负图、神龟载书，远古时代河图洛书的传说，数千年来被认为是中华传统文化的源头。河图出于河南洛阳市的孟津县，人们对它已是_____，而洛书出于何处，一直_____，没有定论。（ ）

- A. 无可厚非莫衷一是
- B. 了然于胸疑窦重重
- C. 如数家珍扑朔迷离
- D. 妇孺皆知影影绰绰

31. 人类和其他生物一样，都是自然界进化的结果，其他生物在享用大自然赋予的资源时，与人类拥有同样的_____。达尔文在《物种起源》一书的最后，写下了一段_____的话语：地球依照重力定理绕行太阳，从这么简单的起源，进化出无数最美丽、最奥妙的事物。这样的生命观，庄严、高贵而且壮阔。（ ）

- A. 待遇深入浅出
- B. 地位奥妙无穷
- C. 权利发人深省
- D. 优势耐人寻味

32. 情报专家巴克斯特在给花草浇水时，脑子里突然出现了一个_____的念头，也许是经常与间谍、情报打交道的缘故，他竟_____地把测试仪器的电极绑到一株天南星植物的叶片上。结果他惊奇地发现，当水从根部徐徐上升时，测试仪上显示出的曲线图形居然与人在激动时测到的曲线图形很相似。（ ）

- A. 古怪异想天开
- B. 奇怪突发奇想
- C. 怪异浮想联翩
- D. 奇特心血来潮

33. 国际市场疲软给中国经济带来了不确定性。面对外汇资产缩水风险、出口贸易受到影响和输入性通胀压力上升等_____，中国需要_____考量应对，谋定而后动。制定短期和中长期的、货币和财政的、战略和战术的、经济和政治的“中国对策”_____。（ ）

- A. 困境郑重迫在眉睫
- B. 考验审慎刻不容缓
- C. 局面仔细急如星火
- D. 局势认真十万火急

34. 意大利地处欧亚大陆和非洲大陆板块的挤压带上，因此境内活火山较多。频繁爆发的火山给意大利人带来了丰厚的_____——可作为优质胶凝材料的火山灰。这种_____的自然条件使古罗马人利用火山灰发明了自然混凝土。（ ）

- A. 收获天造地设
- B. 回报应有尽有
- C. 财富举世无双
- D. 馈赠得天独厚

35. “查清中国海，进军三大洋，登上南极洲”是曾经的海洋梦想“老三样”，这个梦想也只是在本世纪初才得以_____实现。但限于当时的能力，主要做的是海洋的表面文章，对于海面之下隐藏的深海神秘世界，则只是_____。（ ）

- A. 完整浅尝辄止
- B. 部分走马观花
- C. 彻底浮光掠影
- D. 具体蜻蜓点水

36. 在美国，失业保险金的主要_____是雇主缴纳的失业保险税，只有少数几个州会向职工征收失业保险税。税率根据雇主裁员前享受失业保险待遇的雇员人数的多少而上下浮动，解雇率越高，税率越高，这种计算方式可以有效_____雇主的解雇行为。依次填入划横线部分最恰当的一项是（ ）

- A. 构成避免
- B. 类型减少
- C. 来源抑制
- D. 保障降低

37. 新闻媒介是沟通社会与政府的重要桥梁，在政务信息传输系统中具有_____的作用。但体制转型的压力，加之巨大利益的诱惑及制度缺失，给记者的职业操守带来巨大_____，各种虚假报道不时见诸报端，成为小道消息的渊薮。因此我们必须不断完善新闻从业人员资格准入制度及新闻评估核实制度。

依次填入划横线部分最恰当的一项是（ ）

- A. 独一无二冲击

- B. 独树一帜影响
- C. 无与伦比挫折
- D. 无可厚非挑战

38. 对于一个经历过贫困童年的富翁来说，他的消费行为有时显得_____。对于大金额的支出，他会随随便便，甚至显得有些铺张浪费；而对于小金额的支出，他则不得不与自己_____的吝啬性作斗争。

- A. 变幻莫测积重难返
- B. 出人意料与生俱来
- C. 反复无常根深蒂固
- D. 不可思议始终如一

39. “口感好”“有营养”“无污染”……随着这些理念的_____，有机产品迅速增长。然而，一些问题也开始_____：有的生产或销售企业有机产品认证标志使用不规范；有的企业甚至以普通产品_____有机产品。（ ）

- A. 推行突现替换
- B. 推进凸现代替
- C. 推动突显冒充
- D. 推广凸显假冒

40. 对城市建设焕然一新的追求，不仅会使城市记忆受到损坏甚至毁灭，也是对城市中人的生活情感的_____。城市中长期积淀形成的文化风格和人文环境，被当作了“过时”的东西予以_____或抛弃，城市记忆也因此没有了依托对象，公众的情感认同无法被唤起，在心灵上就会出现_____的不安状态。（ ）

- A. 轻视改造居无定所
- B. 淡忘分解无依无靠
- C. 漠然整饬孤苦伶仃
- D. 褻渎批判举目无亲

41. 今后，技术的交叉与融合会越来越明显。新一轮科技和产业革命的方向不会仅仅依赖于两类学科或某种单一技术，而是多学科、多技术领域的高度交叉和深度融合。技术融合趋势决定了战略性新兴产业不可能也不应该孤立地发展，而是既要有利于推动传统产业的创新，又要有利于未来新兴产业的崛起。而且，战略性新兴产业与其他产业之间、战略性新兴产业内部之间的融合也是大势所趋，这将使得行业间的界限越来越模糊，综合竞争力越来越强。

这段文字主要说的是（ ）

- A. 战略性新兴产业的发展需要顺应技术融合的新趋势

- B. 未来行业的界限会变模糊但综合竞争力会增强
- C. 提高综合竞争力将是未来产业发展的主要目标
- D. 战略性新兴产业是促进新一轮科技和产业革命的主力军

42. 现代农业的发展不能脱离生态安全和产品安全两个基本要求，因此，农业污染防治应作为现代农业发展的重要任务之一。不同于工业污染和城市污染，农业污染涉及面广而隐蔽性强，评估难度大，不适合建立惩罚型机制。同时，由于农民收入水平相对较低，不可能进行“污染收费”。所以说，必须建立激励型经济补偿机制，从根本上提高农户防控污染的积极性。这种补偿机制实质上是对生态建设与保护所付出的成本（包括放弃发展机会的损失）进行补偿。

对这段文字的主旨概括最准确的是（ ）

- A. 农业污染防治是现代农业发展的重要任务
- B. 治理农业污染与工业污染的方法有所不同
- C. 转变农业发展模式是治理农业污染的前提
- D. 现代农业污染防治应树立激励补偿型理念

43. 学术评价中，往往交织着主客观的各种复杂因素。由于学术评价常受到评价主体学术观点、情感倾向、价值观等因素的影响，所以人们倾向于依靠量化数据进行评价。事实上，这类数据所包含的评价意义是由点击者、下载者、引用者体现出的，过度倚重这类数据就是把量化数据的制作者当成了评价主体。

这段文字意在说明（ ）

- A. 以量化指标为标准的评价体系备受争议
- B. 在进行学术评价时不能过多依赖量化数据
- C. 正确的学术评价需要经历很长的历史过程
- D. 经得住实践检验的学术评价才是可靠的

44. 有人说，传统小说是依赖经验的写作，而网络小说是依赖想象的写作。看来，这两种写作需要找到一个结合点，依赖经验的写作需要吸纳网络小说的想象，而依赖想象的写作则需要糅入传统小说中丰厚充实的经验。因此，当今的文学要从原创力日益萎缩的窘境中走出来，作家们增加生活经验的积累应该是一个非常关键的举措。但这还只是由经验通往原创力的第一步，接下来必须在体验上进行认真的修炼，使生活经验转化为心灵体验，使客观的经验世界转化为作家主观的心灵世界。

这段文字重点强调的是（ ）

- A. 如何转化经验吸纳想象
- B. 怎样找到传统和网络小说的结合点
- C. 作家应该如何不断地积累生活经验

D. 如何提高文学的原创力

45. 审慎原则并不是尊重科学，而是对科学应用的务实态度。科研成果的取得及其社会认可，往往代表着巨大的经验利益甚或科学家的终身成就，这就很难保证科学家不会放松科学原则要求而违规；科研成果的社会化往往与企业利益相连，企业逐利时难免会刻意隐瞒危害；由于科研的未知性因素和危险的发现难度及时间跨度过大，即使科学家和企业都秉承道德原则，也很难保证能发现科研成果的潜在危害。

这段文字意在强调（ ）

- A. 对科学成果的应用应当秉承谨慎态度
- B. 科研成果应用的潜在危险无法被预测
- C. 科学附带的经济效益腐化了科学精神
- D. 道德原则是科学研究首要遵循的原则

46. 数学方法是西方科学中极其重要和不可或缺的方法。严谨和精确是科学精神的重要组成部分，而严谨和精确在很大程度上是由数学方法带来的。科学要求各种概念尽可能被定量且能以一定的精确性加以检验。定律和定理的精确性体现在它的数学表达上。实验测定值与定律和定理的数学推定值二者的符合或接近，是定律和定理得以成立的主要依据，也是定律和定理令人信服的主要原因。长期以来形成的观念是：一门学科如果不能“数学化”，就算不得精确学科，或被认为是成熟的学科。

对这段文字的主旨概括最准确的是（ ）

- A. 数学化是衡量科研成果的标准
- B. 数学表达使定律和定理更精准
- C. 数学方法是使科学精准化的手段
- D. 数学的魅力在于严谨和精确

47. 公元 1616 年，莎士比亚与汤显祖同年逝世。二人都可算作 16、17 世纪之交的伟大剧作家。二人都爱写剧本，不过写法却不大一样。比如《罗密欧与朱丽叶》故事临近结尾，一双恋人殉情身亡，惨烈的悲剧以双方家族的和解收尾。和解的意愿的确美妙，只可惜，莎翁用于和解的笔墨太过不经意，仿佛仅仅为了“和解”的概念草草应付收场。《牡丹亭》里的杜丽娘，因梦中的相遇而思，而哀，而死，又因此而还生，而圆满。汤显祖将笔墨挥洒于爱而不耗损于恨，推敲于柔美而不沉醉于暴力，他笔下的爱，期待、给予、容纳、无嗔。

这段文字的主旨是（ ）

- A. 阐述莎士比亚和汤显祖的伟大之处
- B. 分析《牡丹亭》独特的写作手法
- C. 比较莎士比亚和汤显祖的艺术风格
- D. 总结中外古典戏曲的共同点

48. 19世纪，爱默生和其他一些作家向读者传授一种称为“自助论”的理论。在这些人看来，一个有个性的人必须要有一颗充实的大脑。在这种思想的指导下，为了得到他人的尊重，有必要在闲暇时广泛涉猎文化史上的杰出著作。同时，也有必要熟悉哲学、神学和世界范围内的重大政治事件。这种风气在一个多世纪的时间里塑造了美国新闻业。在那几十年里，杂志致力于推广古典歌剧、高雅艺术和宗教神学，而不是电影或大众健康常识。

这段文字意在说明（ ）

- A. 新闻媒体是主流文化观的集中体现
- B. 广泛阅读可以充实我们的大脑
- C. 主流媒体有引导大众品味的责任
- D. 自助论为美国新闻业的发展提供了方向

49. 传记，从本质上说，是人的生命活动的记载，是人类生命的一种特殊载体。人的生命活动，不仅表现出生存和发展的渴求，而且表现出自身潜能的开发、释放。这种自身潜能的开发、释放，就是一种力的创造。创造，包括多种形式，有政治家治国平天下的才能展现，有哲学家、思想家在精神领域的探索，有军事家运筹帷幄、驰骋疆场的战斗较量，有科学家的发明创造，有文学家、艺术家的才华展示，有改革家对生存环境的革新改造，等等。这是一幅幅壮丽的生命画卷，是活力向惰性的挑战。人类只有在这样的挑战中才能保持其生命的活力，并为活力的凝聚创造更好的条件。中国古典传记，正是这种生命活力的形象性展现。

这段文字主要说明了（ ）

- A. 传记是人类生命活动最为生动的记载
- B. 中国古典传记从多角度展现了生命活力
- C. 人类自身潜能的开发包括多种形式
- D. 人类个体与整体创造性在传记中有不同的表现

50. 解决城市交通可以尝试一种新机制：公交因为承担着为低收入者、环保人士等提供社会公益性服务的职能，由政府购买公交服务，低价提供给公众；个体自行车出行或纳入到政府购买体系，或推行自行车优先措施；出租车因为价格的高低并不会影响需求者对出租车这种出行方式的选择，所以自然由开放的竞争市场来提供相应服务；对小汽车的使用者可以征收道路使用费，使交通拥堵的外部性内化。这种机制的实施，还要求有配套措施：比如完善公交优先基础设施、鼓励拼车行为、恢复或建设自行车道、制定针对绿色出行的政策法规，引导和鼓励绿色出行方式等。

对文中的“新机制”最恰当的概括是（ ）

- A. “主体—配套”机制
- B. “多元—环保”机制

- C. “保障—市场”机制
- D. “公平—高效”机制

51. 我们说儒家是道德至上或者道德决定论的时候，是一种宏观上的总体定性和评价。所谓“子罕言利”或者“小人喻于利”，是着眼于人作为一种道德存在、超越存在的“应然”特质而立论，所拒斥和鄙夷的只是“不义而富且贵”。具体到关乎民生的问题，儒家并非不言利、否定利，而是主张让利于民，惠民富民；并非认为道德决定民生，而是认为民生决定道德。

根据这段文字，以下说法正确的是（ ）

- A. 儒家认为“利”在不同历史时期有不同的含义
- B. 儒家的民生观不是空谈道德而是强调以民为本
- C. 儒家认为道德与民生并不对立，而是相互促进
- D. 在民生问题上，儒家倡导道德至上

52. 很早以前科学家就发现有些人对于某些药物的反应和其他病人不同。例如，某种麻醉用肌肉松弛剂会导致特定的人无法呼吸。后来，科学家发现产生这种现象的原因在于这类人拥有特定的基因。这也就带来了一个问题：研究人们之间的遗传差异是否可以促进医学发展出更高级的治疗手段，也就是说，根据个人的基因进行“量体裁药”？科学家已经辨认出了一批与药物相互作用的基因，但是要真正实现，恐怕为时尚早。

根据这段文字，以下说法正确的是（ ）

- A. 基因学的研究成果已广泛应用于医学
- B. 医学用药不当会导致人体遗传基因变异
- C. 人体的基因差异可能会体现在药物反应上
- D. 基因与药物能够相互作用的假设还无法证明

53. 18世纪产业革命以后，能源的大量开发利用成为各国经济发展的主流，其开发程度的规模直接决定了一国经济的增长，特别是煤炭的大规模开发利用和大量廉价石油的供应改写了工业化国家的发展史。经济学研究的能源战略也主要是如何以不断增长的能源供给保证经济社会发展日益增长的需求，而任何提高能源消费水平的研究和开发都被认为是不合算和不经济的。这种能源战略对鼓励人们开发利用能源、保证工业化国家基础建设和工业的高速增长起了积极作用，但对开发能源不作限制，造成了能源资源的破坏和浪费，形成了到现在还无法根治的环境污染和公害。

根据这段文字，以下说法正确的是（ ）

- A. 能源战略的经济意义远远不能抵消其对环境造成的危害
- B. 18世纪后的能源开发战略追求对能源的无限制开发和利用
- C. 煤炭和石油的开发程度是一国经济发展的标志

D. 能源开发缺乏合理的规划使产业革命后的能源开发陷入无序

54. 人生不可能是尽善尽美的。我们也很难找到一朵花是完美无缺的。虽然人体总的来说是左右对称的，可是这种对称远远不是完全的。每个人左右手的粗细不一样，一只眼睛比另一只眼睛更大或更圆，两个耳垂的形状也不同。最明显的，就是每个人只有一个心脏，通常都在靠左的位置。

这段文字是一篇文章的开头，文章接下来最可能讲述的是（ ）

- A. 弥补不对称缺憾的诸多方式
- B. 人生中的不完美也能转换为完美
- C. 不对称也能产生和谐与平衡的美感
- D. 人体之所以产生不对称现象的生理基础

55. 近几年中国的投资环境发生了根本性的变化，劳动力成本上升、劳动保护加强、土地成本上升、环保成本上升、能源资源使用成本上升、优惠政策取消，外资企业需要在更高的成本上与内资企业竞争，这是外资企业必须正视的事实和趋势。但要素和能源资源成本上升，伴随的是生产方式和经济结构的提升，意味着经济发展水平和人民生活水平的提高，也意味着市场规模的扩大。取消优惠政策，不是对外资实行歧视政策，也意味着市场规模的扩大。取消优惠政策，不是对外资实行歧视政策，而是为了实行国民待遇，是为了挤出低效率企业，给市场公平竞争的机会。

由这段文字可以推出（ ）

- A. 中国的投资环境在朝良性发展的方向转化
- B. 生产成本的增加可以促使外资更加注重效率
- C. 取消外资优惠政策是对国内外企业负责任的举措
- D. 外资企业应抓住近年市场规模扩大的发展好时机

56. 历史学家的工作对象是史料，这些史料主要是各种文献、遗存，它们可以归为广义上的文本，而且最终它们都要以语言形式进入史家的研究。就此而论，历史学家永远无法真正直接接触到过去本身，而只能借助于各种历史文本而对过去有所言说，因而_____。

填入划横线部分最恰当的一项是（ ）

- A. 文本性就是历史学家的全部工作所无法脱离的樊篱
- B. 无法接触完整的史料对历史学家来说是一种遗憾
- C. 对史料本身的收集和考证就成了史学客观性的保证
- D. 重建和还原历史的本来面目就成了历史学的根本目的

57. 弗拉门戈舞是歌、舞和吉他音乐三位一体的艺术。一般认为它是从北印度出发的吉卜赛人，几经跋涉来到西班牙南部，带来的一种融合印度西班牙南部元素的乐舞。因是被居住在西班牙安达鲁西亚的吉卡赛人创

立传承，所以被称为弗拉门戈舞。_____。就像提起桑巴，人们会想到巴西；提起踢踏舞，会想到爱尔兰；那么说到弗拉门戈舞，你一定就会想到西班牙。填入划横线部分最合适的一项是（ ）

- A. 弗拉门戈舞已经成为西班牙的文化符号
- B. 弗拉门戈舞代表了西班牙人的生活方式
- C. 想了解弗拉门戈舞必须要了解她的发展历史
- D. 弗拉门戈舞是西班牙舞坛最流行的舞种之一

58. 目前，国内增值税的征税范围仅包括除建筑业外的第二产业和第三产业中的商品批发和零售以及加工、修理修配业，对第三产业的大部分行业则课征营业税。而营业税对服务业的营业额全额征税，不可避免地会产生重复征税，并会导致服务生产内部化，不利于服务业的专业化分工和服务外包的发展；又由于在出口时无法进行退税，导致服务含税出口，使得中国的服务出口在国际竞争中处于劣势，因此，_____。填入画横线部分最合适的一项是（ ）

- A. 扩大增值税的征税范围被提上了日程
- B. 取消营业税可以减轻第三产业的负担
- C. 增值税与营业税的分立对服务业的发展造成了不利影响
- D. 调整增值税的征收范围有利于提高中国服务业的国际竞争力

59. ①上海海纳百川、兼容并蓄的特征也开始初露端倪

②历史上的上海，处于传统江南文化的边缘地位

③来自各地的商帮，如浙江的宁波帮、绍兴帮，湖南的洞庭商帮，广东潮州帮，福建泉漳帮等活跃在上海

④从经济地理角度而言，上海距离素称“鱼米之乡”的苏杭尚有相当距离，在以农耕文明为主体的传统社会中自然不占突出位置

⑤在这样的历史条件下，作为政治、经济、文化三重边缘的上海，尚无法在以苏杭为代表的江南主流文化方面有什么建树

⑥虽然在文化上处于边缘地位，但由于优越的地理条件，上海在明清时期已经成为江南重要的商业市镇之一

将以上 6 个句子重新排列，语序正确的是（ ）

- A. ④②⑤⑥①③
- B. ①⑤④③②⑥
- C. ⑥③②④⑤①
- D. ②④⑤⑥③①

60. ①第一本防水装书还将拥有强大的防伪功能

②澳大利亚的银行现在已经使用该项技术来延长纸币的使用寿命，同时减少伪造的风险

③英国出版商近日透露，世界上第一本防水平装书有望明年夏天上架销售

④书的外面还有一层防撕毁的坚韧的聚合物涂层，整本书的架上寿命可以由此增加两倍

⑤据了解，防水平装书将采用先进的防水技术，外面包裹透明的蜡封，这样即便书潮湿了，字迹也不会模糊，书页也不会损毁

⑥这将是此技术首次应用于普通平装书。目前，只有专业的潜水可以做到完全防水

将以上 6 个句子重新排列，语序正确的是（ ）

A. ③⑤④⑥②①

B. ③①②⑤④⑥

C. ⑤①②④⑥③

D. ⑤④⑥②①③

第三部分 数量关系

61. 某商场开展购物优惠活动：一次购买 300 元及以下的商品九折优惠；一次购买超过 300 元的商品，其中 300 元九折优惠，超过 300 元的部分八折优惠。小王购物第一次付款 144 元，第二次又付款 310 元。如果他一次购买并付款，可以节省多少元？（ ）

A. 16

B. 22.4

C. 30.6

D. 48

62. 某单位今年一月份购买 5 包 A4 纸、6 包 B5 纸，购买 A4 纸的钱比 B5 纸少 5 元；第一季度该单位共购买 A4 纸 15 包、B5 纸 12 包、共花费 510 元；那么每包 B5 纸的价格比 A4 纸便宜（ ）

A. 1.5 元

B. 2.0 元

C. 2.5 元

D. 3.0 元

63. A、B 两桶中共装有 108 公斤水。从 A 桶中取出 $\frac{1}{4}$ 的水倒入 B 桶，再从 B 桶中取出 $\frac{1}{4}$ 的水倒入 A 桶，此时两桶中水的重量刚好相等。问 B 桶中原来有多少公斤水？（ ）

A. 42

B. 48

C. 50

D. 60

64. 有 100 人参加运动会的三个比赛项目，每人至少参加一项，其中未参加跳远的有 50 人，未参加跳高的有 60 人，未参加赛跑的有 70 人。问至少有多少人参加了不止一个项目？（ ）

A. 7

B. 10

C. 15

D. 20

65. 某次抽奖活动在三个箱子中均放有红、黄、一绿、蓝、紫、橙、白、黑 8 种颜色的球各一个，奖励规则如下：从三个箱子中分别摸出一个球，摸出的 3 个球均为红球的得一等奖，摸出的 3 个球中至少有一个绿球的得二等奖，摸出的 3 个球均为彩色球（黑、白除外）的得三等奖。问不中奖的概率是多少？（ ）

A. 在 0~25%之间

B. 在 25~50%之间

C. 在 50~75%之间

D. 在 75~100%之间

66. 60 名员工投票从甲、乙、丙三人中评选最佳员工，选举时每人只能投票选举一人，得票最多的人当选。开票中途累计，前 30 张选票中，甲得 15 票，乙得 10 票，丙得 5 票。问在尚未统计的选票中，甲至少再得多少票就一定当选？（ ）

A. 15

B. 13

C. 10

D. 8

67. 小张、小王二人同时从甲地出发，驾车匀速在甲乙两地之间往返行驶。小张的车速比小王快，两人出发后第一次和第二次相遇都在同一地点，问小张的车速是小王的几倍？（ ）

A. 1.5

B. 2

C. 2.5

D. 3

68. 同 65

69. 出租车队去机场接某会议的参会者，如果每车坐3名参会者，则需另外安排一辆大巴送走余下的50人；如每车坐4名参会者，则最后正好多出3辆空车。问该车队有多少辆出租车？（ ）

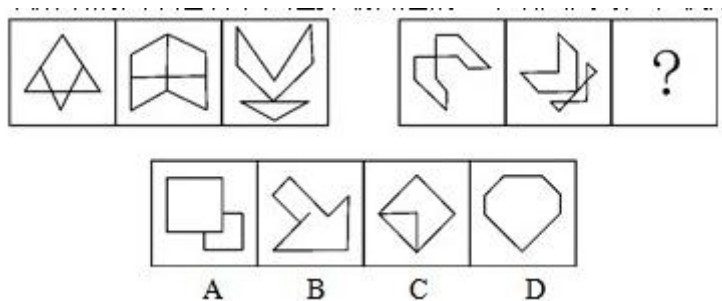
- A. 50
- B. 55
- C. 60
- D. 62

70. 早上7点两组农民开始在麦田里收割麦子，其中甲组20人，乙组15人。8点半，甲组分出10人捆麦子；10点，甲组将本组所有已割的麦子捆好后，全部帮乙组捆麦子；如果乙组农民一直在割麦子，什么时候乙组所有已割的麦子能够捆好？（假设每个农民的工作效率相同）（ ）

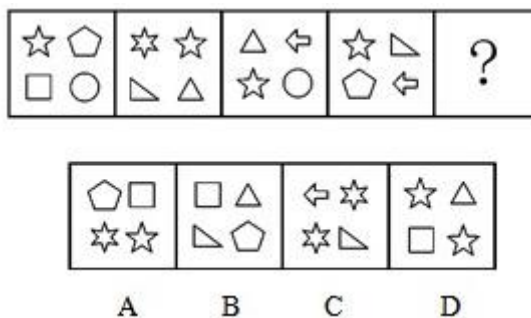
- A. 10:45
- B. 11:00
- C. 11:15
- D. 11:30

第四部分 逻辑判断

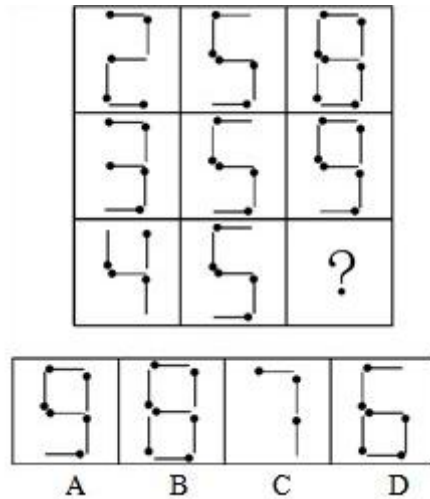
71. 从所给的四个选项中，选择最合适的一个填入问号处，使之呈现一定的规律性（ ）



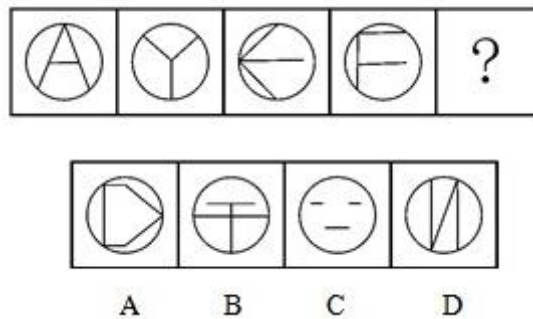
72. 从所给的四个选项中，选择最合适的一个填入问号处，使之呈现一定的规律性（ ）



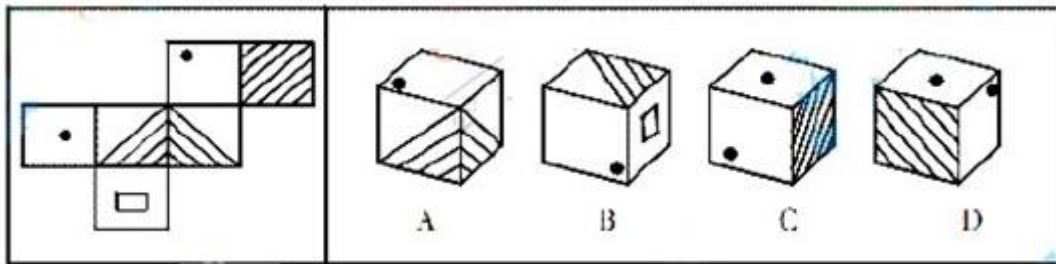
73. 从所给的四个选项中，选择最合适的一个填入问号处，使之呈现一定的规律性（ ）



74、从所给的四个选项中，选择最合适的一个填入问号处，使之呈现一定的规律性（ ）



75、从所给的四个选项中，选择最合适的一个填入问号处，使之呈现一定的规律性（ ）



76. 心理契约是指个体与组织之间隐含的没有明文规定的双方各自的责任及对对方的期望。

根据上述定义，下列属于建立心理契约的措施是（ ）

- A. 为提高员工积极性，每月业绩最好者能享受双薪
- B. 为解决员工后顾之忧，与优秀员工签订终身合同
- C. 为吸引优秀人才，承诺为员工提供购房免息借款
- D. 结合企业的发展蓝图，为员工提供职业生涯设计

77. 印记学习是指发生在动物生活的早期阶段、由直接印象形成的学习行为，印记学习行为虽发生在早期，但对晚期行为也具有一定影响。

根据上述定义，下列不属于印记学习行为的是（ ）

- A. 绵羊走近并试图留在喂养过它的主人身边
- B. 由人喂养大的斑马雀会向主人的手指求偶
- C. 母羊用舌舐小羊的方式来标记自己的后代
- D. 刚出生的绿头鸭跟随着一个移动的物体走

78. 临终关怀是指为临终患者提供医疗、护理、心理、社会等多方位的关怀照顾。使每个患者的生命受到尊重，症状得到控制，生命质量得到提高。

根据上述定义，下列不属于临终关怀的是（ ）

- A. 老赵肝癌晚期，医生尽最大努力进行治疗，不惜一切代价延长其生命
- B. 老王肾衰竭晚期希望回到故乡，他在接受疼痛处理后被同意出院
- C. 老李白血病晚期，医生对他进行保守治疗，配合适当的绘画与音乐治疗
- D. 老刘胃癌晚期，某大学组织志愿者每天陪他聊天

79. 农产品补贴通常是指一国政府对本国的农业生产商或者经营者提供资金或财政上的支持，包括现金补贴、价格支持或其他政策优惠待遇，使其农业产品在国际、国内市场上与未受补贴的同类产品相比获得竞争优势。

根据上述定义，下列属于农产品补贴的是（ ）

- A. 为了稳定农产品价格，某市政府除对农贸市场经营者的摊位租金实行减免政策外，还规定若摊位租金低于限定数额，可以向经营者发放 10%~40%不等的补贴
- B. 甲国市场上，政府以高于国际市场价格收购农民种植的玉米，再低价售出，以鼓励农民种植玉米。该国某企业利用玉米作为主要饲料培育肉鸡，再大量出口到乙国
- C. 甲地区主要是草原，由于过度放牧导致草场退化。国家政府根据该地区的情况，发放牧民 8~10 年的补贴，请他们减少饲养的禽畜，这导致市场上的牛羊肉价格升高了
- D. 某国政府为农民和水稻研究所牵线搭桥，使该国农民种植了新品种水稻。该种水稻的质量和产量大幅度提升，使得该国水稻出口价格与国际市场上的水稻相差无几

80. 自白任意性规则是指只有基于犯罪嫌疑人自由意志而作出的、承认有罪的真实陈述，才具有证据能力。

根据上述定义，下列符合自白任意性规则做法的是（ ）

- A. 为避免犯罪嫌疑人有做出虚假陈述，应中止讯问
- B. 犯罪嫌疑人的有罪陈述须与收集到的证据材料一致
- C. 犯罪嫌疑人主张自己无罪，可以不承担举证责任
- D. 以从轻处罚为条件，换取犯罪嫌疑人的有罪答辩

81. 调查显示, 59.4%的公众感觉当前社会“逆淘汰”现象普遍, 其中 18.8%的人觉得“非常多”。所谓“逆淘汰”, 简言之, 即指坏的淘汰好的, 劣质的淘汰优质的, 平庸的淘汰杰出的等现象。

根据上述定义, 下列属于逆淘汰现象的是 ()

A. 某公司拥有领先的卫星通话技术, 语音质量高, 覆盖范围广, 但该技术的维持费用高昂。后来该公司入不敷出, 宣告破产

B. 市场上某些价格高昂的止咳药疗效实际不如价格低廉的常用药, 而事实上常用药所占市场份额较小

C. 许多公司都有对工作发牢骚的人, 结果, 凡是公司中有对工作发牢骚的人, 那家公司一定比没有这种人的公司要成功得多

D. 名牌大学毕业的甲和普通大学毕业的乙同时进入某国际知名公司, 但甲始终未获提升, 乙却逐渐得到了公司的认可

82. 有些产品的精心设计使产品方便高效, 能给客户带来舒适感, 使用时不用阅读复杂的说明或是求助他人。而有些产品恰恰相反, 它们的设计没有考虑用户的使用习惯和需要, 因而使人们在使用过程中会遇到困难或者迷惑不解的情况, 这类产品被人们称为诺曼产品。

根据上述定义, 下列属于诺曼产品的是 ()

A. 某品牌木制大衣柜的底部滑轮质量较差, 用户很难将门拉开

B. 某款网络游戏很难通关, 很多玩家在网上求助怎样破解其中的关卡

C. 汽车收音机按钮和其他设备开关的形状、大小都一样, 用户很难分辨哪个是收音机按钮

D. 某科技公司的精密实验设备附有 300 页的说明书, 一般人觉得里面术语太多, 很难读懂

83. 政策性亏损是指为保证国民经济的协调发展和人民生活的安定, 企业在实现政府规定的社会公益服务目标, 生产经营某种商品的过程中, 由于国家限价等原因而产生的亏损。发生这类亏损, 由财政部门审核后给予合理补偿。

根据上述定义, 下列属于政策性亏损的是 ()

A. 2012 年, 某粮食直补每亩增至 120 元, 补贴资金将通过“省财政涉农补贴一本通”发放到种粮农民手中, 以弥补农民增加的种粮成本

B. 国家出台提高小麦最低收购保护价政策, 某粮油企业为开拓市场大量抢购小麦, 又将大量面粉低于市场价销售, 因此造成了亏损

C. 政府为实现农业现代化的目标, 加大了对农业生产改造的资金投入, 某农机企业在这种形势下扩大生产规模导致了亏损, 得到了退税补偿

D. 某县的粮食购销企业在经营政府规定的平价粮油过程中, 因国家粮食保护价高但粮油成品销售价格低导致了亏损, 财政部门给予了定额补贴

84. 威客模式是指一些人通过互联网把自己的智慧、知识、能力、经验转换成实际收益，他们在互联网上通过解决科学、技术、工作、生活、学习中的问题从而让知识、经验、技能产生经济价值。

根据上述定义，下列属于威客模式的是（ ）

- A. 某高校学生建立的免费回答中小学生学习问题的公益网站受到了学生和家长的的好评，当地一家教育机构出资赞助扩大这个网站的规模，以帮助更多的学生
- B. 某 IT 技术人员用业余时间开了一个小公司，主要在网络远程帮助他人修理电脑
- C. 某大学毕业生在一个 B2C 网站上开了一家服装店，运用自己的人脉资源使网店很快就开始盈利
- D. 某影师个人网站上的摄影作品吸引了大批网友浏览、转发，后来该摄影师依靠在该网站上发布摄影器材广告带来大量收入

85. 蒸发冷却是指液体在蒸发成气体的过程中会吸热，从而降低周围的温度起到冷却的效果。蒸发冷却效应是指在目的或志趣相同的人们组成的社会团体中，团体的价值跟液体的整体温度类似，当价值较高的成员离开社团后，社团自身的平均价值会降低。

根据上述定义，下列属于蒸发冷却效应的是（ ）

- A. 某高校的街舞社团的团长毕业离开学校后，该社团便再没有在街舞比赛中取得较好的名次
- B. 某知名流行音乐演唱组合中的一名歌手因意外去世，大批歌迷认为这个歌手的离开导致该组合整体演唱水平大打折扣
- C. 某教育机构的一些老师离开该机构创办自己的教育公司，使该机构在市场竞争的形势变得更加严峻
- D. 某社交网站的影评小组建立之初时人数较少，影评质量较高，后来有大量人加入这个小组上传影评，使这里整体的影评质量有所下降

86. 平静：讲述（ ）

- A. 欣喜：接受
- B. 愤怒：言论
- C. 悲哀：哀乐
- D. 快乐：行为

87. 军队：命令（ ）

- A. 乐队：指挥
- B. 游客：向导
- C. 志愿者：号召
- D. 学生：教导

88. 兴趣：索然无味（ ）

- A. 知识：不学无术
B. 误会：善解人意
C. 骨气：卑躬屈膝
D. 礼貌：盛气凌人
89. 软件：程序员：编写（ ）
A. 木头：木匠：打制
B. 渔网：渔民：编织
C. 车票：乘客：购买
D. 麦克风：歌手：唱歌
90. 地理：自然地理：经济地理（ ）
A. 城市：居民区：商业区
B. 卫星：遥感：雷达
C. 糖果：水果糖：芝麻糖
D. 单位：千米：公里
91. 文字：剧本：话剧（ ）
A. 水：水果：果汁
B. 叶子：植物：中药
C. 字母：键盘：文章
D. 音符：乐谱：歌曲
92. 发动机：飞机：旅客（ ）
A. 琴键：钢琴：音乐
B. 电池：手电筒：灯光
C. 发条：钟表：时间
D. 杆秤：秤杆：重量
93. （ ）对于家具相当于花岗岩对于（ ）
A. 书桌：石膏
B. 家电：岩石
C. 木材：雕塑
D. 房间：石矿
94. （ ）对于领航相当于规则对于（ ）

- A. 航班：选手
- B. 航标：犯规
- C. 导航：比赛
- D. 航线：裁判

95. 邮局对于（ ）相当于（ ）对于网购

- A 快递：网店
- B 邮政：网银
- C 电子邮件：百货商场
- D 驿站：网站

96. 传统观点认为，尽管用于制造贫铀弹所使用的贫铀放射性低，仍会导致人类染色体受损，从而引发肿瘤或癌症。但是，在最近的一项研究中，研究人员对接触过贫铀弹的退伍老兵的血细胞进行研究，到目前为止，还没有检测到任何染色体断裂和重复，并没有发现任何由于接触贫铀弹而造成的负面健康影响。因此相关研究人员认为，放射性低的贫铀弹不会对人类的健康造成影响。

以下哪项如果为真，最能削弱研究人员的结论？（ ）

- A. 某地居民向法院起诉，声称该国军队试验贫铀弹，已影响该地居民健康
- B. 世界上很多图象的专家都在致力于解决贫铀弹的放射性问题
- C. 有数据显示，这些退伍老兵的后代患有先天性缺陷的比率高于正常值
- D. 没有接触过贫铀弹的人也会患有肿瘤或癌症

97. 我国生产婴幼儿配方奶粉的企业有 130 多家，而美国只有 4 家企业，相比之下美国吃配方奶粉的婴幼儿数量则远高于我国。“设想一下，如果只有 4 家企业生产配方奶粉，企业会倍加珍惜自己的品牌价值，不断加强食品安全意识，任何可能的食品安全风险都是企业自身无法容忍的，发生三聚氰胺这样的问题是不可想象的。”

以下哪项如果为真，最能削弱上述观点？（ ）

- A. 我国生产婴幼儿配方奶粉的企业太多，品牌价值对于企业并不重要，所以这些企业敢在奶粉中添加三聚氰胺
- B. 某国的婴幼儿配方奶粉生产商有 90 多家，它们之中大多数企业生产出的奶粉均未查出过三聚氰胺
- C. 某公司是我国生产奶制品的著名企业，其品牌价值很高，但是在其生产的奶制品中查出了三聚氰胺
- D. 某企业是美国婴幼儿配方奶粉的著名生产商，在他们生产的某品牌配方奶粉中查出了三聚氰胺

98. 2 亿年前，在恐龙统治地球之时，一小撮夜行性的远古爬行动物在不知不觉中找到了一条生存策略，并最终走向了大脑的进化之路。科学家从与原始哺乳动物极其类似的远古爬行动物的头骨化石中得出结论，正是嗅觉的发展促进了远古爬行动物大脑的进化。

以下哪项如果为真，最能支持上述结论？（ ）

- A. 许多早期哺乳动物由于自然选择进化出了更小的身体，而它们的脑却未能按比例缩小
- B. 研究人员分析了爬行动物犬齿龙类化石，其与早期哺乳动物摩根兽亲缘关系很近，但摩根兽的大脑比犬齿龙要大一半，其中处理嗅觉的区域明显增大
- C. 早期夜行性哺乳动物进化出更大的脑是为了促进它们的听觉，因为视觉在夜晚并不能起到很大作用
- D. 研究表明，与现存哺乳动物关系最近的巨颅兽，其大脑容量和鼻腔所占空间都要比早期爬行动物大一些

99. 科学家们认为，梦是大脑中主管人体各种功能的各个中心点联合作用的结果。人在睡眠时其部分脑细胞仍然在活动着，这就是梦的基础。最近的研究成果证实，做梦不仅不会影响人的睡眠和健康，而且还是保护大脑健康所必需的生理活动之一。

以下哪项如果为真，最能支持上述结论？（ ）

- A. 根据问卷分析，长期不做梦的人比经常做梦者所需的睡眠时间更长，在休息后有一半人仍会感到疲倦
- B. 实验中，研究人员在睡眠者出现做梦的脑电波时，就立即将其阻断，结果发现被试的血压和体温明显增高
- C. 研究中，梦境被打扰的被试在醒来后显得焦虑不安，容易紧张，并出现记忆的短期障碍
- D. 调查显示，能完整讲述梦境的被试相比遗忘梦境者，在工作中更能快速集中注意力，从而工作效率更高

100. 树木枝干和许多植物的茎秆通常含有大量难以分解的木质素，因此利用它们来提炼生物燃料的效率会大打折扣。目前，人们发现了一种名为红球菌的细菌。它具有分解木头和其他植物中木质素的能力，因此，人们认为可以将红球菌广泛用于以往大都废弃的茎秆，从而大大提高生物燃料的利用率。

以下哪项如果为真，最能支持上述结论？（ ）

- A. 红球菌能分泌一种酶，这种酶具有分解木质素的能力，但是其分泌能力呈现周期性变化
- B. 一些真菌也具有分解木质素的能力，研究发现，这些真菌的生长需要特定的温度和湿度
- C. 红球菌易于培养，目前对红球菌已完成基因测序，因此可以利用红球菌大规模地生产分解木质素的酶
- D. 木质素是一种优质高分子材料，迄今为止，超过 95%的木质素都是直接排入江河或浓缩后烧掉，很少有效利用

101. 研究人员在正常的海水和包含两倍二氧化碳浓度的海水中分别培育了某种鱼苗。鱼苗长大后被放入一个迷宫。每当遇到障碍物时，在正常海水中孵化的鱼都会选择正确的方向避开。然而那些在高二氧化碳浓度下

孵化的鱼却会随机地选择向左转或向右转，这样，这种鱼遇到天敌时生存机会减少。因此，研究人员认为在高二氧化碳环境中孵化的鱼，生存的能力将会减弱。

以下哪项如果为真，不能支持该项结论？（ ）

A. 人类燃烧化石燃料产生的二氧化碳大约有三分之一都被地球上的海洋吸收了，这使得海水逐渐酸化，会软化海洋生物的外壳和骨骼

B. 在二氧化碳含量高的海洋区域，氧气含量较低。氧气少使海洋生物呼吸困难，觅食、躲避掠食者以及繁衍后代也变得更加困难

C. 二氧化碳是很多海洋植物的重要营养物质，它们在日光照射下把叶子吸收的二氧化碳和根部输送来的水分转变为糖、淀粉以及氧气

D. 将小丑鱼幼鱼放在二氧化碳浓度较高的海水中饲养，并播放天敌发出的声音，结果这组小鱼听不到声音

102. 研究人员完成了两项记忆实验。实验一中参试者学习 40 组单词。实验二中参试者学习一系列手指信号。两实验中，只告诉一半参试者 10 小时后将接受测试，实际上所有参试者都将接受测试。只安排一部分参试者在学习和测试之间小睡。结果发现，睡觉组参试者比不睡觉参试者表现更好；事先被告知要进行测试的参试者，测试成绩也比较高。因此，研究人员认为，睡眠有助于大脑储存对将来有用的记忆信息。

如果以下各项为真，最能反驳该结论的一项是（ ）

A. 实验一中参试者都是记忆力较好的、在某语言专业学习的年轻人

B. 有些被告知要进行测试的参试者，小睡时没有睡着，他们无意识地在脑中复习所学过的内容

C. 安排小睡时间的参试者，均为年龄较小的少年，而众所周知，人在少年时期的记忆力比较好

D. 实验二中部分小睡的参试者以放松的心态参加考试，取得了较好的成绩

103. 富裕起来的这一代中国父母，仍然处在家庭教育的“初级阶段”内，习惯于用物质欲望的满足、用金钱砸下的“抢跑”来帮助孩子“赢在起跑线上”，用不肯放手来表达自己的爱、对教育的重视。快乐对于单纯的孩子而言，实在是很简单的事。有爱心的父母，没有那么多期望与要求，放下怀抱的焦虑感，没有那么多对于社会、制度、他人的怨愤，单纯地和孩子在一起，为他们营造一个更安全的环境，一起度过快乐美好的一天。

由此可以推出（ ）

A. 关心孩子会给孩子带来比金钱更多的快乐

B. 让孩子“赢在起跑线上”是一种错误的想法

C. 满足孩子的物质欲望也是爱孩子的一种方式

D. 孩子希望父母陪伴而不是把他们送进补习班

104. 所有的战争和混乱都是在没有协商、无理可讲的时候发生的，讲理和协商都离不开语言，然而，并非有语言的地方就自动会有说理，有语言的地方必须有自由才能有说理。

由此可以推出（ ）

- A. 所有的战争和混乱都是因为没有自由而发生的
- B. 并非所有的战争和混乱都是在不可以协商和不可以讲理的时候发生的
- C. 如果没有自由，不能讲理，就可能发生战争和混乱
- D. 有语言和自由的地方就一定不会发生战争

105. 某单位每逢年底会针对全体员工进行评优，评优奖项有 5 个，分别是最佳敬业奖、最佳创意奖、最佳协作奖、最佳写作奖，年度明星奖。其中如果评选了年度明星奖则不能再评选最佳创意奖和最佳敬业奖；如果评选了协作奖，就不能再获得写作奖；如果评选了敬业奖，则不能再获得协作奖。每个人最多获得两个奖项。综合科一共 3 位员工，揽括了所有奖项，每个人都获奖，但是奖项各不相同。已知员工甲获得了明星奖，员工乙和员工丙二人之间有人获得了写作奖。

由此可知，下列推测一定正确的是（ ）

- A. 如果乙获得了写作奖，则其还获得敬业奖
- B. 如果乙获得了协作奖，则乙和丙各获得两个奖项
- C. 如果乙获得了写作奖和创意奖，则甲一定只获得一个奖项
- D. 如果丙获得了协作奖，则乙一定不能获得敬业奖

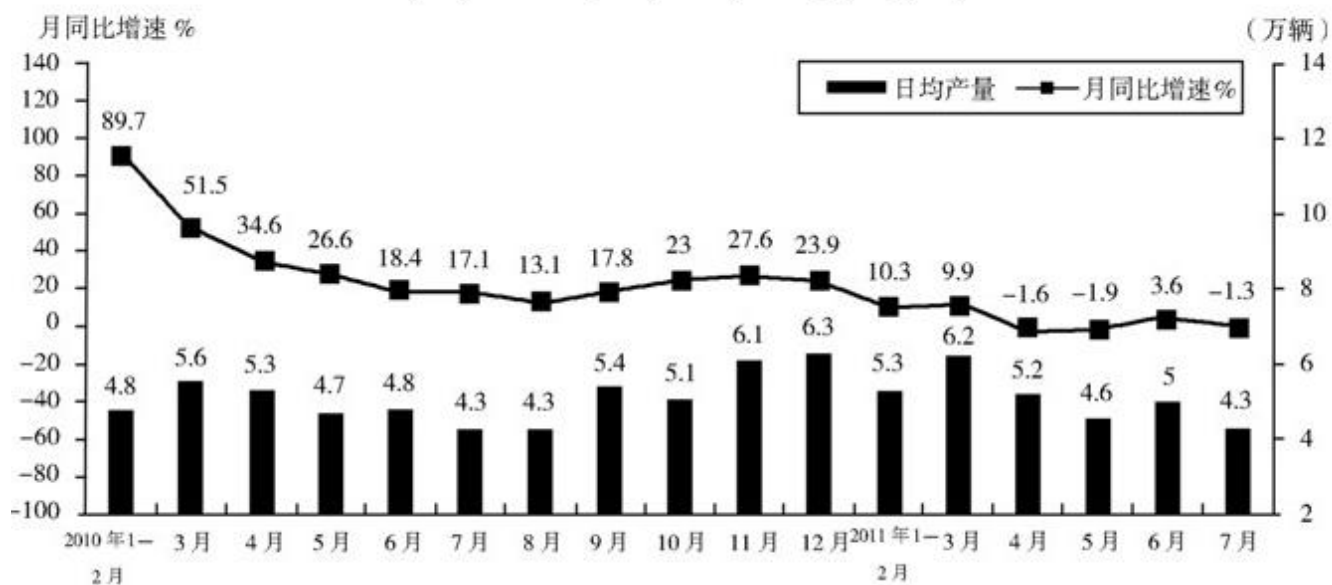
第五部分 资料分析

二、根据所给文字、图表资料回答 106—110 题。

2011 年 7 月份规模以上工业生产主要数据

指标	7 月		1-7 月	
	绝对量	同比增长	绝对量	同比增长
发电量（亿千瓦时）	4252.0	13.2%	26426.0	13.3%
钢材（万吨）	7572.0	14.9%	51401.0	13.0%
水泥（万吨）	18308.0	16.8%	113480.0	19.2%
原油加工量（万吨）	3749.0	5.9%	26046.0	6.9%
十种有色金属（万吨）	293.0	9.8%	1984.0	9.9%
乙烯（万吨）	130.0	11.5%	916.0	16.9%
汽车（万辆）	131.8	-1.3%	1085.0	4.0%
其中：轿车（万辆）	77.7	12.6%	585.8	8.5%

2010年1月-2011年7月汽车产量及月同比增速



2010年1月-2011年7月汽车产量及月同比增速

106. 2011年7月产量低于上半年月均产量的是()

- A. 电
- B. 钢材
- C. 水泥
- D. 乙烯

107. 2011年7月轿车产量占汽车产量的比重与上年同期相比()

- A. 上升了约7个百分点
- B. 下降了约7个百分点
- C. 上升了约14个百分点
- D. 下降了约14个百分点

108. 2010年年3-12月中,汽车单月产量超过150万辆的月份有()个。

- A. 4
- B. 5
- C. 6
- D. 7

109. 下列选项中,汽车产量同比增速最低的是()

- A. 2010年4月
- B. 2010年5月

- C. 2011 年 4 月
- D. 2011 年 5 月

110. 以下说法与资料相符的是 ()

- A. 表中产品 2011 年 7 月产量同比增速均慢于上半年
- B. 2011 年 7 月, 十种有色金属比上年同期增产 9.8 万吨
- C. 2009 年 11 月, 汽车日均产量超过 4 万辆
- D. 2010 年汽车产量最低的季度是第一季度

二、根据所给文字、图表资料回答 111—115 题。

某市 2010 年全年实现农业增加值 124.3 亿元, 比上年下降 1.6%。粮食播种面积 22.3 万公顷, 比上年减少 0.3 万公顷; 粮食产量 115.7 万吨, 比上年下降 7.3%。

全市农业观光园 1303 个, 比上年增加 9 个; 观光园总收入 17.8 亿元, 比上年增长 16.7%。民俗旅游实际经营户 7979 户, 比上年减少 726 户; 民俗旅游总收入 7.3 亿元, 增长 20.7%。种业收入 14.6 亿元, 比上年增长 13.5%。设施农业占地面积 18323 公顷, 比上年下降 2.3%; 实现收入 40.7 亿元, 增长 20.1%。2010 年主要农副产品产量

2010 年主要农副产品产量

指标	产量 (万吨)	比上年增长 (%)
粮食	115.7	-7.3
蔬菜	303.0	-4.5
肉类	46.3	-2.0
禽蛋	15.1	-1.7
水产品	6.3	9.0
牛奶	64.1	-4.9
干鲜果品	85.4	-5.5

111. 该市 2009 年全年实现农业增加值约多少亿元? ()

- A. 124
- B. 126
- C. 129
- D. 132

112. 该市 2010 年粮食平均产量约为每公顷多少吨? ()

- A. 4.6
- B. 5.2

C. 5.8

D. 6.5

113. 该市主要农副产品与上年相比, 产量变化绝对值最小的是 ()

A. 肉类

B. 禽蛋

C. 水产品

D. 牛奶

114. 该市种业收入增长速度 ()

A. 高于观光园总收入增长速度

B. 高于设施农业收入增长速度

C. 低于民俗旅游总收入增长速度

D. 低于设施农业占地面积增长速度

115. 以下说法与资料相符的是 ()

A. 2010 年该市粮食产量不到蔬菜产量的 1/3

B. 2010 年该市主要农副产品产量均有所下降

C. 2009 年该市观光园数量为 1312 年

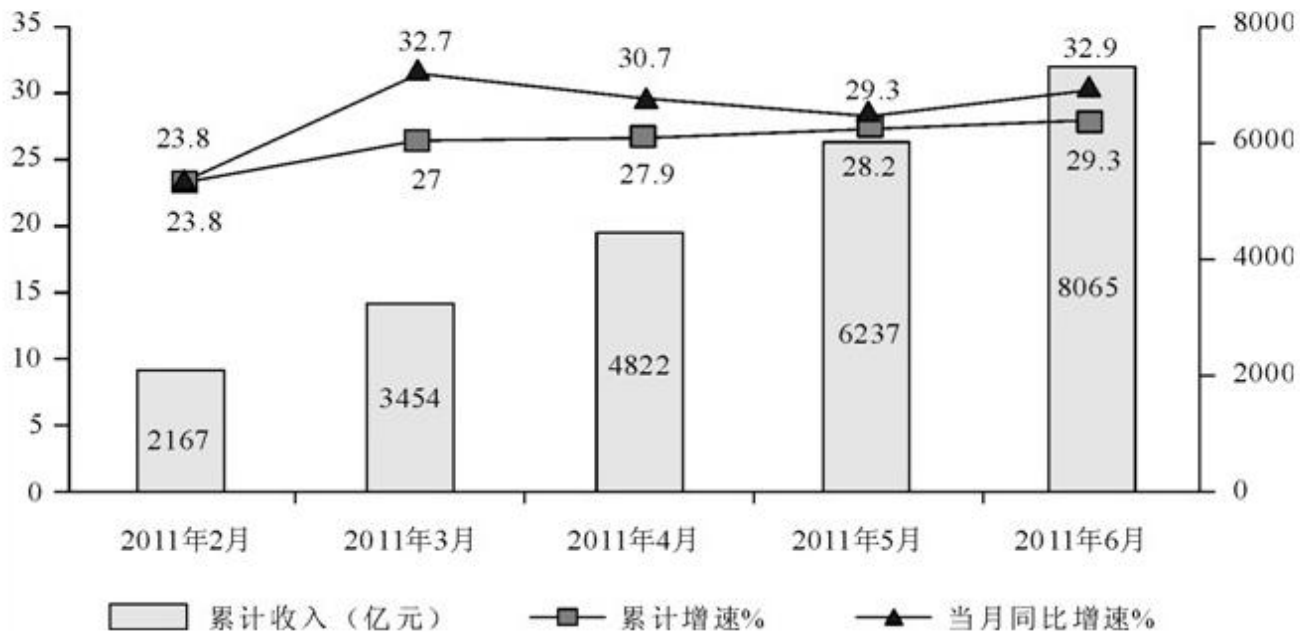
D. 2010 年该市单位面积粮食产量比上年有所下降

三、根据所给文字、图表资料回答 116—120 题。

2011 年上半年, 我国软件产业实现软件业务收入 8065 亿元, 同比增长 29.3%, 增速比去年同期高 0.2 个百分点; 实现利润 103 亿元, 同比增长 34.9%。其中, 6 月份完成软件业务收入 1828 亿元, 同比增长 32.9%, 增速比 5 月份回升 3.6 个百分点。

上半年, 信息技术咨询服务、数据处理和运营服务实现收入 761 和 1073 亿元, 同比增长 36.5%和 34.5%, 分别高出全行业 7.2 和 5.2 个百分点; 嵌入式系统软件实现收入 1443 亿元, 同比增长 33.8%, 增速比去年同期高 14.2 个百分点。软件产品和信息系统集成服务发展较为稳定, 分别实现收入 2867 亿元和 1673 亿元, 同比增长 28.2%和 23.9%。IC 设计增长放缓, 上半年实现收入 248 亿元, 同比增长 13.7%, 低于去年同期 20 个百分点以上。

2011年上半年软件业务收入情况



116. 2011年6月份我国软件产业软件业务收入占上半年总值的比重约为 ()

- A. 22.7%
- B. 24.6%
- C. 26.5%
- D. 29.1%

117. 与2011年一季度相比,二季度软件业务收入增长了约 ()

- A. 30.2%
- B. 33.5%
- C. 36.7%
- D. 39.4%

118. 2011年上半年嵌入式系统软件收入同比增长了多少亿元? ()

- A. 307
- B. 365
- C. 424
- D. 488

119. 2011年上半年收入占整个软件产业的比重高于上年同期水平的是 ()

- A. 信息系统集成
- B. 嵌入式系统软件
- C. IC设计

D. 软件产品

120. 以下说法与资料相符的是 ()

- A. 2011 年 5 月份我国软件产业实现软件业务收入同比增长 28.2%
- B. 2011 年 3 月份我国软件产业实现软件业务收入高于 4 月份
- C. 2011 年上半年信息技术服务实现收入超过 1800 亿元
- D. 2010 年上半年 IC 设计实现收入同比增速为 6.3%

2013 年贵州公务员《行政职业能力测验》

参考答案与解析

1. 【解析】B。党的十八大报告中首次提出，到 2020 年，“实现国内生产总值和城乡居民人均收入比 2010 年翻一番”的目标，B 项表述错误，“城乡居民人均收入”并不等于“城乡居民每人收入”。
2. 【解析】B。C。拉动经济增长的三大马车分别是投资、消费、出口。故本题答案为 C。
3. 【解析】D。国民用于购买食物的费用占日常支出的比重即为恩格尔系数。恩格尔系数越大，代表生活水平越低，也就是国家越贫穷，因此四个国家中，叛国、智利和希腊的经济发达程度均高于非洲国家刚果，因此本题选 D。
4. 【解析】B。本题考查地理国情常识。A、C、D 表述都是正确的，只有 B 选项是错误的，错误原因是日本是稀土的主要使用国，而不是美国。
5. 【解析】D。本题考查文学常识。寂寞东篱湿露华，依前金靺照泥沙。金靺：金黄色的面庞，代指菊花；泥沙：比喻卑微的地位。意思是菊花在东边的篱笆下，带着清晨的露水在寂寞地开放，依然象往常一样在无人关注地自展芳华。世间的俗人是没有高雅的情趣，只是在重阳节那天跟风去看菊花。
6. 【解析】C。连中三元、五子登科、名落孙山。三元：科举制度称乡试、会试、殿试的第一名为解元、会元、状元，合称“三元”。接连在乡试、会试、殿试中考中了第一名，称“连中三元”。出自：明·冯梦龙《警世通言》卷十八：“论他的志气，便象冯京商辂连中三元，也只算他便袋里东西，真个是足蹶风云，气冲斗牛。”五子登科：《宋史·窦仪传》记载：宋代窦禹钧的五个儿子仪、俨、侃、
7. 【解析】B。“知之为知之，不知为不知，是知也”不是出自《韩非子》，而是选自《论语·为政》，意思是：知道就是知道，不知道就是不知道，这样才是真正的智慧。原句是——子曰：“由，诲女知之乎！知之为知之，不知为不知，是知也。”由：孔子的学生，姓仲，名由，字子路。ACD 都是正确的。

8. 【解析】D。本题考查哲学常识的矛盾论，在湖南华图常识课程讲义第9页例题中可以直接体现。（原题：“没有哪一次巨大的历史灾难，不是以历史的进步为补偿的。”恩格斯这句话蕴含的哲理是：DA. 矛盾双方相互排斥 B. 矛盾双方相互渗透 C. 矛盾双方没有联系 D. 矛盾双方在一定条件下相互转化）“分”与“合”是两个相互矛盾的事物，本题中强调分与合二者的互相转化，没有体现ABC的原理。

9. 【解析】B。《四库全书》基本囊括了清代前期的古代所有的图书。因此B是错误的。

10. 【解析】C。半坡遗址位于陕西省西安市东郊；周口店遗址属全国重点文物保护单位，位于北京市西南房山区周口店镇龙骨山北部；河姆渡遗址是中国南方早期新石器时代遗址，全国重点文物保护单位，位于距宁波市区约20公里的余姚市河姆渡镇；大汶口遗址位于山东泰安城南30公里处的大汶河畔。本题选择C项。

11. 【解析】B。金砖国家（BRICS）是指巴西、俄罗斯、印度、中国、南非五国。其中与我国接壤的是俄罗斯和印度。

12. 【解析】C。里氏规模每增强一级，释放的能量约增加30倍。其他选项表述正确，因此，本题选择C项。

13. 【解析】D。图1是智利的复活岛巨人阵，图2是希腊巴特农神庙，图3是墨西哥金字塔，图4是英国巨石阵。所以本题选D。

14. 【解析】B。知识产权，指权利人对其所创作的智力劳动成果所享有的专有权利。《专利法》第70条规定：“为生产经营目的使用、许诺销售或者销售不知道是未经专利权人许可而制造并售出的专利侵权产品，能证明该产品合法来源的，不承担赔偿责任。”不承担赔偿责任，不意味着不构成侵权。事实上，为生产经营目的销售不知道是未经专利权人许可而制造并售出的专利侵权产品已构成“善意侵权”，专利权也属于知识产权。故B项应选。

15. 【解析】C。本题考察的是物权法中的建筑物区分所有权，这道题也是湖南华图常识名师张鑫老师在上课讲民法时讲的建筑物区分所有权。考察的是《物权法》第七十三条建筑区划内的道路，属于业主共有，但属于城镇公共道路的除外。建筑区划内的绿地，属于业主共有，但属于城镇公共绿地或者明示属于个人的除外。建筑区划内的其他公共场所、公用设施和物业服务用房，属于业主共有。第七十四条建筑区划内，规划用于停放汽车的车位、车库应当首先满足业主的需要。建筑区划内，规划用于停放汽车的车位、车库的归属，由当事人通过出售、附赠或者出租等方式约定。占用业主共有的道路或者其他场地用于停放汽车的车位，属于业主共有。

16. 【解析】C。A选项和C选项往往考生都能看出，符合生活常识，但是B选项物体受热时会膨胀，遇冷时会收缩。这是由于物体内的粒子（原子）运动会随温度改变，当温度上升时，粒子的振动幅度加大，令物体膨胀；但当温度下降时，粒子的振动幅度便会减少，使物体收缩。这是典型的热胀冷缩原理，但是却需要运用

物理方面的知识，对考生要求至高，可见一般。D选项明确写明水结冰后膨胀使岩石碎裂，这个选项是因温度变低而导致岩石涨裂，题目考查的明显是冷缩。

17. 【解析】B。本题考察的是科技常识。考生只需要把握凸透镜和凹透镜的成像原理即可。湖南华图常识名师张鑫老师在上课讲科技常识时讲凸透镜和凹透镜的成像原理在生活中的应用。这几个例子张鑫老师在上课时都讲过。

18. 【解析】A。本题考查科技常识。A选项是错误的，隐形飞机的外层涂料的颜色是黑色，而不是天蓝色或者银白色。

19. 【解析】B。本题考察医学常识。造成血液颜色为红色的是蛋白质。

20. 【解析】B。A正确。贫血是指全身循环血液中红细胞总量减少至正常值以下。临床上一般指外周血中血红蛋白的浓度低于患者同年龄组、同性别和同地区的正常标准。B正确。卡介苗是一种用来预防儿童结核病的预防接种疫苗。C正确。游泳时应避免将水咽入口中，以免水通过鼻咽部而进入中耳引发中耳炎。外伤所致的鼓膜穿孔禁止滴任何水样液体，以免影响创口的愈合。D错误。人体骨密度在达到峰值后会逐年下降，男性下降幅度较女性大。

21. 【解析】D。本题的切入点在第一空。“中药出口欧洲遭遇严冬”直接受影响的是中药的“国际化”问题，中药的“标准化”“现代化”“产业化”均与“中药出口欧洲遭遇严冬”关联不大。故应选D。

22. 【解析】A。“纠偏”与“纠错”属于并列关系，因此第一空应选择与“及时”近义的“尽早”，“彻底”“公开”“坦诚”都没有时间紧迫的含义。对于第二空，多元价值强调的是各方之间的制衡。因此本题选A。

23. 【解析】A。由“而不是……甚至……”可知，甚至后面的部分要比前面的部分的程度深，“破坏”是贬义词，政府不可能破坏企业的人才录用过程，“影响”和“直接参与”的程度差不多，因此排除C、D两项。根据文意，企业更需要的是长久地留住人才，故本题选A。

24. 【解析】C。本题的切入点在第三空。“汲取为……”“锤炼为……”均搭配不当，故首先可排除B、D项。再看第一空，“代价”泛指为达到某种目的所耗费的物质或精力，题干第二句明显不是人们为浅阅读付出的代价，而是浅阅读带来的弊端。排除A项，故应选C。

25. 【解析】C。本题的关键在于第三空。通读文段可知，第一句为主旨句，后面的“公司和产品”“某些书籍”都是对主旨句进行的解释说明，为并列结构。由“在公司和产品不知名的情况下”可知，第三空应该填入与“不知名”意思相近的词，C项的“陌生”最恰当，应选。再看第二空，“刺激销售”搭配恰当，“促进”一般与“消费”搭配，“带动”通常与“增长”搭配，“提高”应与“销量”搭配。最后验证第一空，将C项的“悲剧”代入，符合文义。故选C。

26. 【解析】A。本题的切入点在第一空。“琳琅满目”比喻美好的东西很多，多指书籍或工艺品，不能修饰“情感价值取向”，排除B项；“纷繁芜杂”指多而杂乱，没有条理。文中强调的是情感价值取向的多样性，没有“杂乱”这一内涵，排除C项；“标新立异”既强调“新”又强调“异”，情感价值取向没有“新”这一内涵，排除D项。

27. 【解析】A。第一空，“被海水淹没地区的人口”应该被“转移”或是“安置”，“控制”人口表意不当，“延缓”与“人口”无法构成动宾关系，故首先排除B、C两项。第二空，“全球变暖所导致的最坏结果的发生”应该是通过“限制二氧化碳的排放”被“阻止”的，“结果”可以被“改变”，但“结果的发生”不能被“改变”，即“改变”+名词、“阻止”+动词，排除D项。本题答案为A。

28. 【解析】C。“凭空捏造/臆造”都可搭配使用，因此答案锁定C、D项。第二空，“体会”指体验和领会；“体察”指体验和察看。而第二空前面的“关注”二字已含有“察看”的意思，所以这里选“体会”更为恰当。故本题正确答案为C。

29. 【解析】C。第二空前面的“甚至”二字可以判定这里应填入一个比“熟人”程度更深的词语，B、D两项中的“搭档”“同僚”不合适，故先排除。第二空，A项“加快”选择不合适，只能是“影响”选择，故本题选C。

30. 【解析】B。第一空，“河图出于河南洛阳市的孟津县”这件事情是人尽皆知的，“无可厚非”主要指没有可过分责难的，表意不当，故首先排除A项。“妇孺皆知”本身含主语，而原句“人们对它已是……”也包含主语“人们”，故排除D项。“了然于胸”与“如数家珍”都可形容某人对所讲的事情十分熟悉。第二空，“扑朔迷离”形容事情错综复杂，不容易看清真相，“疑窦重重”指有很多使人怀疑之处，文中说“没有定论”，表明“洛书出于何处”这件事情有很多说法，但每种说法都有可疑之处，因此无法下定论，可见用“疑窦重重”更合适。故本题答案为B。

31. 【解析】C。“待遇”一般与“享受”搭配，首先排除A项。文段的意思是，人类与其他生物都是自然界进化的结果，因此其他生物也应当和人类一样，有权享用大自然赋予的资源。根据常识可以推断，生物的高低等级不同，对自然资源利用的程度必然也不同，因此，其他生物与人类拥有同样的“地位”和“优势”是说不通的，故排除B、D项。故本题选C。

32. 【解析】A。本题以第二空为切入点进行排除。“浮想联翩”指许许多多的想象不断涌现出来，与前文的“一个……念头”矛盾，排除C项。“心血来潮”形容心中突然产生某种念头，与前文“脑子里突然出现了一个……念头”表述重复，排除D项。“异想天开”比喻荒唐离奇，想象着根本不可能实现的事情，“突发奇想”形容突然想出一个非常奇怪的想法或突然想做某一件前所未有的事。二者的含义有相似之处，但是“异想天开”明显程度更深。测谎仪器是给人使用的，而巴克斯特竟然将它使用在植物的叶片上，常人看来这种行为

是非常荒唐、无法理解的。因此第二空填入“异想天开”更为恰当。再看第一空，“古怪”和“奇怪”是近义词，“古怪”的程度要比“奇怪”深，故本题选A。

33. 【解析】B。文段主要讲的是国际市场疲软给中国带来的不确定性影响，是对此种情况的客观描述。A项的“困境”“郑重”含有主观色彩，应排除。第二空中，“审慎”意为谨慎、慎重，比“仔细”“认真”词义更重，用于此处更恰当，故排除C、D项。再验证B项的第三空，“刻不容缓”比喻情势紧迫，一刻也不允许拖延，用于此处符合语境。故选B。

34. 【解析】D。“收获”“回报”应和“付出”对应，第一空前没有关于“付出”的内容，故排除A、B两项。火山灰并不是只有意大利才有，因此第二空可以排除C项的“举世无双”。故本题选D。

35. 【解析】A。由常识可知，“查清中国海，进军三大洋，登上南极洲”都是我们已经做到的事情，故B项的“部分”说法错误，排除。“浮光掠影”比喻观察不细致或印象很不深刻，像水上的反光和一闪而过的影子，一晃就过去了。“浅尝辄止”指略微尝试一下就停止，比喻不肯下工夫深入钻研。“蜻蜓点水”指蜻蜓在水面飞行时用尾部轻触水面的动作，比喻做事肤浅、不深入。由词义可知，第二空选“浅尝辄止”更为恰当。本题答案为A。

36. 【解析】C。本题切入点为第一空，“只有少数几个州会向职工征收失业保险税”说明的是“失业保险税”的来源问题，而第一句明显为并列关系的复句，所以第一空应填“来源”。本题应选C。

37. 【解析】A。先看第一空。“独树一帜”比喻自成一家，不能修饰“作用”，排除B项；“无可厚非”是指不可过分指摘，表示虽有缺点，但是可以原谅，不能作定语来修饰“作用”，D项也应排除。再看第二空。“挫折”与“记者的职业操守”不能搭配，故排除C项。故应选A。

38. 【解析】C。先看第一空，“对于一个经历过贫困童年的富翁来说”这句话交代了原因、背景，所以富翁的消费行为不可能是“不可思议”或“出人意料”的，故排除B、D项。再看第二空，“根深蒂固”强调“根”“蒂”，即原本、根本如此，这与贫困童年的经历相呼应；而“积重难返”强调“积”的过程，与原文所要表达的意思不是很相符。所以本题选C。

39. 【解析】D。先看第一个空，“推广”扩大应用或施行范围，推行扩大，而“推动”多指使劲地推向前或摇动推进或使工作展开，“推进”形容事物的运动状态，“推行”指推广施行或推动物体向前，这三个词均是修饰具体事务的，只有“推行”更适合修饰“理念”这一抽象的概念。“突显”指突出地显示，“突现”指突然出现，“凸现”指突出的显现，而“凸显”指清楚的显露，更适合引出后文的具体阐述，因此本题答案选D。

40. 【解析】A。先看第二空，文段中没有体现对“过时”的东西予以“批评”的意思，故排除D项。再看第三空，“居无定所”本意表示没有固定的居住位置，甚至是属于自己的定居点都没有，从不在同一个地方多做停留，随遇而居；“无依无靠”形容孤独或没有支持；“孤苦伶仃”形容孤独困苦，无依无靠。由文段可知，

这里主要讲的是追求城市建设焕然一新后，引起城市记忆的变化。结合成语的意思可知，第三空选“居无定所”更为恰当。故本题答案为A。

41. 【解析】A。本题属于主旨概括题。文段的主体为“战略性新兴产业”，强调战略性新兴产业与其他产业相融合是技术融合的大势所趋。因此，本题答案为A选项。

42. 【解析】D。本题是一道主旨概括题，整段文字是分总结构，“所以说”引导总部分主旨句——“必须建立激励型经济补偿机制”，其主体是“现代农业污染”。所以本题选D。

43. 【解析】B。本题一道意图判断题，整段文字主要讲是学术评价交织各种复杂因素，言外之意是学术评价不应该过多依赖量化数据。因此，本题答案为B选项。

44. 【解析】D。本题属于主旨概括题。文段尾句由转折关联词“但”引出主题句，即原创力走出困境的方法。A、B项说法片面，排除；C项无中生有，文段并未提及作家应如何不断地积累生活经验。因此，本题答案选择D选项。

45. 【解析】A。本题属于意图判断题。文段脉络为总分结构。首句提出全文重点，即：谨慎原则是对科学应用的务实态度。第二句利用分号引导了三个分句，具体阐明了科研成果在应用过程中的弊端，言外之意是呼吁对科研成果的应用应当谨慎。BCD三个选项是均对分论点进行阐述，排除。因此，本题答案选择A选项。

46. 【解析】C。文段是总分总的论述形式，第一句话是主题句，后文是展开论述，最后一句是主旨的同义阐述。C项正是最后一句话的同义表达，所以本题选C。A项中科研成果过于具体，与原文关系不大。B项只是原文主旨的一个方面，作为主旨概括，不够全面。D项不是原文主旨，同样只是其中的一个方面。

47. 【解析】C。文段可以分为两层，前三句话是总述，点明了文段的主旨——莎士比亚和汤显祖是同时代的伟大剧作家，但是二人的剧本写法不一样。之后的内容是分说，以《罗密欧与朱丽叶》和《牡丹亭》为例，具体比较二者艺术风格的不同。因此，只有C项完整地概括了文段的主旨。A项的“伟大之处”仅在第二句话中提到，偏离了文段的主旨。B项只提到了《牡丹亭》，过于片面。D项，文段的主体是莎士比亚和汤显祖，“中外古典戏剧”无端扩大了主体范围，且“共同点”表述有误，文段主要阐述不同之处。故选C。

48. 【解析】D。文段中的“这种风气……”承接前面的表述，是该段落的主旨所在，也即文段的核心跟美国新闻业有关；而所谓的“风气”是因为“自助论”而产生的。两者结合，可以得出“自助论为美国新闻业的发展提供了方向”这一论断。故选D。

49. 【解析】B。文段在前面六句的内容都是关于传记和生命活力之间联系的陈述，而通过表示总结的标志“正是这种生命活力……”可知，最后一句是文段的落脚点，是文段的主旨所在，因此正确答案中必须要体现“中国古典传记”和“生命力”两个概念，故选B。

50. 【解析】C。词语理解题，定位原文“新机制”在第一行，应用特殊符号“：”，“：”后面是对新机制的解释说明，解释说明部分为分号引导的并列句，内容是不同的交通方式的保障，概括为“保障—市场”更合适。答案选C。

51. 【解析】B。这道题是细节题，A选项中的不同时期原文没有涉及，C选项中的“相互促进”与文中“并非认为道德决定民生而是……”相矛盾，D选项中的儒家道德至上与文中不符。所以本题答案B。

52. 【解析】C。本题属于细节理解题。根据“但是要真正实现，恐怕为时尚早”一句可知，基因学的研究成果还未广泛应用于医学实践，A项错误。B项表述错误，不是用药不当导致基因变异，而是基因的差异使得人体对药物的反应不一样。根据“科学家发现产生这种现象的原因在于这类人拥有特定的基因”一句可知C项正确。D项原文没有体现，为无中生有项。因此，本题答案为C选项。

53. 【解析】A。本题属于细节理解题。由文段尾句的转折“对开发能源不作限制，造成了能源资源的破坏和浪费，形成了到现在还无法根治的环境污染和公害”可知A项表述正确。B、C、D项无中生有。因此，本题答案为A选项。

54. 【解析】C。原文第一句话“人生不可能是尽善尽美的”是文段的基调，从“不可能”可以看出作者的态度是接受不完美这个事实，B项逻辑不通，不完美转化为完美，那么人生就是尽善尽美了，与第一句话矛盾。A项将不对称视为缺憾，也不符合第一句话的观点。D项在原文已体现，故排除。C项符合原文逻辑，不对称是事实，但不一定就是丑或缺憾，也能产生和谐与平衡的美感。所以选C。

55. 【解析】A。文段第一句指出，中国投资环境发生根本变化，表面上看外资企业面临的投资环境有所恶化。第二句和第三句则表明市场规模扩大、公平竞争更能得以保证。这说明实际上中国的投资环境在朝良性发展的方向转化。

56. 【解析】A。本题属于语句衔接题。文段由“就此而论”引导出重点，提出历史学家只能借助于历史文本对历史进行研究，此处强调的是“历史文本”的重要性，可见尾句由“因此”引导的结论句应对前文进行总结，主体与之保持一致。A项的“文本性”与前文主体话题连贯一致。因此，本题答案为A选项。

57. 【解析】A。横线之前的文字介绍了弗拉门戈舞特征、来源、传承等，意思比较完整，而横线之后的文字都是具体的例子，由此可以判断横线处填入的句子应当承上启下，能够概括后文的内容。“提起桑巴，人们会想到巴西；提到踢踏舞，人们会想到爱尔兰”，这说明桑巴舞和踢踏舞已经成为巴西和爱尔兰的文化符号，那么弗拉门戈舞也正是西班牙的文化符号，因此A项正确。B项的“生活方式”、D项的“最流行”与后文联系不够紧密，排除。C项的“发展历史”在前文已经提过，无法引出后文，排除。

58. 【解析】C。这道题属于语句衔接题中的结语类。结语题应根据上文中最近的观点信息，即增值税和营业税并行征收，下文应该提到增值税和营业税，A选项无中生有，B选项不符合“营改增”的税改常识，D选项有利于的对象窄于上文。所以本题选C。

59. 【解析】D。这是一道语句排序题型。根据首句特点 B 选项不符合，根据语句的联系可以确定②④与⑤⑥的顺序，所以本题选 D。

60. 【解析】A。语句排序题，首先看能否确定首句，观察选项③⑤句都出现了两次，先看③句提到了第一本防水平装书，后文肯定与谈这本书有关的话题，看到①句有谈到此书“还”表示递进关系，说明前文提到此书的一个功能，排除 B 选项，④⑤句讲述一种技术，按照语义⑤句在④句前面，⑥句提到此技术，是对于⑤④内容的指代，确定⑤④⑥顺序，选择 A。

61. 【解析】A。统筹优化问题。由题意，第一次付款 144 元可得商品原价为 160 元；第二次付款为 310 元可得原价为 350 元。故总价 510 元，按照优惠，需付款 $300 \times 0.9 + 210 \times 0.8 = 438$ （元），节省了 $454 - 438 = 16$ （元）。

62. 【解析】C。方程问题。设 A4 纸和 B5 纸的价格分别为 x 元和 y 元。由题意可得方程， $6y - 5x = 5$ ， $15x + 12y = 510$ 解得 $x = 20$ ， $y = 17.5$ ，所以每包纸比 A4 纸便宜 $20 - 17.5 = 2.5$ 元。答案选择 C 选项。

63. 【解析】D。代入排除思想。由题意，最后两桶水中各有 54 公斤水。代入 D 项 60。则 A 桶原有水量为 48 公斤， $48 \times 1/4 = 12$ ， $12 + 60 = 72$ ， $72 \times 1/4 = 18$ ， $72 - 18 = 54$ ，满足题意。

64. 【解析】B。最值问题。由题意，参加跳远的人数为 50 人，参加跳高的为 40 人，参加赛跑的为 30 人；即参加项目的人次为 120 人次；故欲使参加不止一项的人数最少，则需要使只参加一项的人数最多为 x ，参加 3 项的人数为 y ；故 $x + 3y = 120$ ， $x + y = 100$ ，解得 $y = 10$ 。

65. 【解析】C。概率问题。中奖概率为 $\left(\frac{3}{4}\right)^3 + C_{13}^1 \times \frac{1}{8} \times \left(\frac{1}{4}\right)^2 + C_{23}^2 \times \left(\frac{1}{8}\right)^2 \times \frac{1}{4} = \frac{117}{256} < 50\%$ ，故不中奖的概率略大于 50%。

66. 【解析】B。最值问题。构造最不利，由题意，还剩 30 名员工没有投票，考虑最不利的情况，乙对甲的威胁最大，先给乙 5 张选票，甲乙即各有 15 张选票，其余 25 张选票中，甲只要在获得 13 张选票就可以确定当选。

67. 【解析】B。行程问题。采用比例法。由题意，两人从同地出发，则第一次相遇时两人的路程和为 2 个全程，设其中小张走了 x ，小王走了 y ；第二次相遇时两人走了 4 个全长，小张走了 $2y$ ，小王走了 $x - y$ ；由

比例法 $\frac{x}{y} = \frac{2y}{x - y}$ ，解得 $x = 2y$ ，故两人速度比为 2: 1。

68. 【解析】D。同 65

69. 【解析】D。方程问题。设有 x 辆出租车，由题意列方程： $3x + 50 = 4(x - 3)$ ，解得 $x = 62$ 。

70. 【解析】B。工程问题。采用赋值法，赋值每个农民割麦子的效率为 1，由题意，甲组割麦子的总量为 $20 \times 1.5 + 10 \times 1.5 = 45$ ，故每个农民捆麦子的效率为 $45 \div 1.5 \div 10 = 3$ ；设从 10 点之后经过 x 小时，乙组的麦子全

部捆好。故乙组割麦子的总量为 $15 \times (3+x)$ ，捆麦子总量为 $20 \times 3 \times x$ ，二者应该相等，解得 $x=1$ （小时）；故 11:00 时麦子可以全部捆好（最后一步可以采用代入排除）。

71. 【解析】A。本题考查对称轴的方向。第一组图形都具有一条竖直的对称轴，第二组图形都具有一条斜着的对称轴。因此，本题选择 A 选项。

72. 【解析】A。题干每幅图形都有四种元素，且每幅图形中都含有相同的元素五角星。因此，本题选择 A 选项。

73. 【解析】A。在第一行中，第一个图叠加第二个图为第三个图，第二行也满足此规律，所以第三行的前两个图叠加为 A 项。因此，本题选择 A 选项。

74. 【解析】B。题干每幅图形中直线的数量都为 3，且内部图形与外部图形的交点数都为 3。因此，本题选择 B 选项。

75. 【解析】A

。重构类。用对立面不可同时出现排除 B 选项；运用华图上课教授的相对面之间的移动法，将中心有一个小黑点的图移过去，三图转为相邻，C 选项有小黑点的两相接的面错误，D 选项三个图的时针方向错误。

76. 【解析】D。心理契约的一个重要特点是“没有明文规定”。A 项提供双薪、B 项签订合同、C 项承诺提供免息借款都属于明示的、双方明确约定的情况。D 项通过为员工提供职业生涯设计，使员工与企业发展结合在一起，企业能与员工达成并维持一份动态平衡的“心理契约”。因此只有 D 项符合题目要求。

77. 【解析】C。印记学习发生在动物活动的早期阶段，A、B、D 三项都是动物在早期形成了一种印象或者习惯，继而影响到现在的行为。C 项行为的主体是母羊，而它舔小羊的行为并不是在它早期由直接印象形成的学习行为。因此本题答案选 C。

78. 【解析】A。定义的关键信息是“生命受到尊重，症状得到控制，生命质量得到提高”，A 项只是延长生命，但是生命质量是否提高，没有涉及，故不属于临终关怀。B、C、D 项中，患者的生命质量均有所提高。故本题选 A。

79. 【解析】D。在选项中，只有 D 项符合定义，即该国水稻得到政府的财政支持后，在国际市场上更具有优势，故本题选 D。

80. 【解析】C。关键词是：自由意志。A 选项提出终止询问。B 选项提到材料一致。D 选项诱以从轻发落，都与自由意志相悖。C 选项免除犯罪嫌疑人对无罪主张的举证责任，从而使犯罪嫌疑人能放心陈述，体现了自由意志。因此，本题选择 C 选项。

81. 【解析】B。A 项中的领先的卫星通话技术费用昂贵而没有获得市场优势，说明自身存在不足，不能说是“劣质的淘汰了优质的”。C 项并没有优劣对比。D 项是个例，也不符合定义。B 项价格高的药占据了大部分市场，而疗效却不如常用药，属于典型的“平庸的淘汰杰出的”情况，故本题选 B。

82. 【解析】C。诺曼产品定义的核心是“产品的设计没有考虑用户的习惯和需要，造成使用上的不便”。A项是质量问题。B项是游戏难度的设置，并没有造成使用的不便。D项说明书并不是产品本身。故本题答案选C。

83. 【解析】D。定义可以简单概括为“企业为了配合政策公益目标造成亏损，政府财政予以补贴”。最符合这一定义的是D项。A项并没有涉及企业；B项企业行为并不是为了配合政策，而是其自发的行为；C项中的企业是在大形势下造成的亏损，而不是为了配合某项具体政策而造成的亏损，故排除。本题答案为D。

84. 【解析】B。A项为公益性质，并没有产生经济价值。C项和D项只是借助网络平台，而并不是将自己的智慧、知识、能力、经验直接转化为经济收益。B项属于利用网络，是自己的技术直接转化为经济收益。

85. 【解析】A。A项中，团长离开社团后，该社团再也没有取得过好名次，说明该社团的平均价值降低了，符合定义。B项只是歌迷的看法，并不能说明该演唱组合的价值真的降低了。C项同B项，并没有明确证明该团体的价值降低。D项并没有人员的离开，不符合定义。故本题选A。

86. 【解析】A。本题考查语法关系，前者可以修饰后者，平静地讲述，也后者为动词。因此，本题选择A选项。

87. 【解析】A。本题考查对应关系。军队必须绝对服从命令，乐队必须绝对服从指挥。因此，本题选择A选项。

88. 【解析】C。无味本题考查反义关系，索然无味是指没有兴趣，卑躬屈膝是指没有骨气。因此，本题选择C选项。

89. 【解析】B。本题考查语法关系，程序员编写软件，渔民编制渔网。因此，本题选择B选项。

90. 【解析】C。本题考查包含以及并列关系。自然地理与经济地理为并列关系，同属地理，水果糖与芝麻糖为并列关系，同属糖果。因此，本题选择C选项。

91. 【解析】D。文字：剧本：话剧本题考查对应关系。由文字组成剧本，根据剧本编排话剧；由音符组成乐谱，根据乐谱演唱歌曲。

92. 【解析】C。发动机是飞机的动力来源，飞机是运送旅客的工具，C项发条是钟表的动力装置，钟表是标示时间的工具。A项琴键不是钢琴的动力来源，钢琴是演奏音乐的工具。B项电池是手电筒的能量来源，手电筒与灯光之间无必然关系。D项杆秤与秤杆的出现位置和题干不同。故选C。

93. 【解析】C。家具的一种原材料是木材，雕塑的一种原材料是花岗岩。因此，本题选择C选项。

94. 【解析】D。本题考查对应关系。根据航线进行领航，根据规则进行裁判。因此，本题选择D选项。

95. 【解析】C。本题考查对应关系。使用电子邮件可以代替去邮局发信，网购可以代替百货商场购物。

96. 【解析】C。论证类。要削弱的论点：放射性低的贫铀弹不会影响健康；论据：对退伍老兵的体检未检测出负面影响。B“致力于解决放射性问题”和论点无直接关系；ACD都可削弱，但最直接、离题目最近的应该是C，材料中药证明的是“退伍老兵”这个群体，因此本题答案为C选项。

97. 【解析】D。论证类。要削弱的论点：如果4家企业生产奶粉，他们会珍惜品牌，加强食品安全，不会有三聚氰胺问题。对其进行直接否定：生产奶粉的这4家企业珍惜品牌，加强食品安全，但仍有三聚氰胺问题。要证明的论点主体是美国的4家企业，A、B、C项均不符合。因此，正确答案为D。

98. 【解析】B。本题属于加强支持型，论点为嗅觉的发展促进了远古爬行动物的进化，B项对比了进化程度较高的哺乳动物的大脑容量和处理嗅觉的区域，支持了论点。因此，本题选择B选项。

99. 【解析】A。本题属于加强支持型，论点为：做梦不会影响睡眠和健康，反而会保护大脑健康，A项直接给出现象，长期不做梦的人比经常做梦者所需睡眠时间更长，但在休息后有一半人后仍然会感到疲惫，说明做梦不影响睡眠且对健康有益。因此，本题选择A选项。

100. 【解析】C。本题属于加强支持型，论点为红球菌能够提高生物燃料的利用率，C项说红球菌可以产生分解木质素的酶。因此，本题选择C选项。

101. 【解析】C。论证类。要支持的论点：高二氧化碳环境中孵化的鱼，生存能力较弱。A项的“二氧化碳软化海洋生物外壳骨骼”支持论点；B项的“高二氧化碳使其呼吸繁衍都困难”支持论点；D项的“高二氧化碳环境中，小丑鱼幼鱼听不到天敌声音”，即易被天敌伤害，支持论点；C项的“二氧化碳会转化成淀粉氧气”，有利于生存，不能支持论点。正确答案为C选项。

102. 【解析】C。题干的结论是睡眠有助于大脑储存对将来有用的记忆信息。A项谈的是实验一，与结论无关，排除。B项，B项涉及的是“有些被告知要进行测试的参试者”，为无关选项，排除。C项说明睡觉组成成绩高另有其他原因存在，削弱了题干结论。D项谈的是“部分参试者”，虽有一定削弱力度，但不及C项，故本题答案为C。

103. 【解析】D。本题属于日常推理型，题干中阐述了父母对孩子的教育，对两种不同的方式都进行了表述，但是并没有进行比较，只有D项能够推出。因此，本题选择D选项。

104. 【解析】C。翻译推理类题目。战争和混乱→无协商无理，讲理协商→语言，说理→语言自由；A项中，战争混乱→没有自由，题中“战争和混乱→无协商无理”，因此无协商无理推不出任何事情，A项错误；B项说法和题目原话完全相反，错。D项中，语言自由→无战争，题中“语言自由”推不出任何事情，错。C项中，无自由→无理，无理推不出必然有战争，但可能有战争，C项正确。因此本题选择C选项。

105. 【解析】B。本题属于翻译推理，题干翻译为：明星→非创意且非敬业；协作→非写作；敬业→非协作；B项中说乙获得协作奖，则根据题干可知乙不能获得写作奖，并且不能获得敬业奖，并且丙一定获得了写作奖，甲获得了明星奖，并且不能获得创意和敬业奖，并且不能获得协作奖和写作奖，题干中有5个奖项，3

个人，每个人最多获得 2 个奖项，甲只能获得一个奖项，因此，乙、丙都能各获得 2 个奖项，因此，本题选择 B 选项。

106. 【解析】D。本题属于比较题型。7 月份低于上半年月均，也就意味着，7 月份低于前七个月的月均。根据表格材料，四个选项中，电、钢材、水泥均大于 7 月份的，因此，选择乙烯，即 D 选项。

107. 【解析】A。本题属于比重比较题型。部分的增长率为 12.6%，整体的增长率为-1.3%，所以比重上升，根据性质选择小于 12.6%-(-1.3%) 的选项。结合选项，答案为 A 选项。

108. 【解析】C。2010 年 3-12 月中，4、6、9、11 月 30 天，只要日产量超过 5 吨，3、5、7、8、10、12 月超过 4.83 吨，月产量将会超过 150 吨，结合柱状图数据一共有 3、4、9、10、11、12 月 6 个。答案为 C 选项。

109. 【解析】D。本题考核直接读数。2010 年 4 月，汽车产量同比增速为 34.6%；2010 年 5 月，汽车产量同比增速为 26.6%；2011 年 4 月，汽车产量同比增速为-1.6%；2011 年 5 月，汽车产量同比增速为-1.9%，最低的增长率为 D。因此，答案选择 A 选项。

110. 【解析】C。本题属于文字分析题，考核读数、比重计算和基期量计算 A 选项，增长率比较。钢材的 7 月产量同比增速高于上半年。A 选项错误。B 选项，增长量计算。2011 年 7 月，十种有色金属比上年同期增长 $293 \times 9.8\% / (1+9.8\%)$ 不等于 9.8。B 选项错误。

C 选项，平均数计算。2009 年 11 月，汽车日均产量为 $6.1 / (1+27.6\%) > 4$ 。C 选项正确。

D 选项，2010 年汽车产量最低的季度应该为第二季度。D 选项错误。

因此，答案选择 C 选项。

116. 【解析】A。本题考核比重计算。2011 年 6 月软件业务收入占上半年的总产值的比重为 $\frac{8065 - 6237}{8065} \times 100\%$ ，直除首两位为 22。

117. 【解析】B。本题考核增长率计算。2011 年二季度软件业务收入增长率为 $\frac{8065 - 3454 - 3454}{3454} \times 100\%$ ，直除首两位为 33。

118. 【解析】B。本题考核增长量计算。2011 年嵌入式系统软件同比增长率为 $\frac{1443}{1+33.8\%} \times 33.8\% \approx 365$ （亿元）。

119. 【解析】B。本题考核现基期比重比较大小。要求 2011 年上半年收入占整个软件产业的比重高于上年同期的是哪一项数据，只需找出同比增速高于整个软件产业收入同比增速的那项数据即可，由第二段可知，只有嵌入式系统软件的增长率 33.8%，高于上半年软件产业的增长率 29.3%。选 B。

120. 【解析】C。本题属于文字分析题。A 选项，2011 年 5 月软件业务同比增速，直接观察发现为 29.3%。A 选项错误。B 选项，3 月收入增长 3454-2167 明显小于 4 月份的收入增长 4822-3454。B 选项正确。C 选项，上

半年信息技术服务为 $761+1076=1837$ （亿元），明显超过 1800 亿元。C 选项正确。D 选项，2010 年上半年 IC 设计收入同比增速超过 $(13.7\%+20\%)$ ，不是 6.3%。D 选项错误。