



贵州省最全面的人事信息发布平台

2018年6月贵州省事业单位招聘考试

《公共基础知识》试卷

考生回忆版

贵州 163 人事网

www.gz163rsw.com



关注官方微信公众号

获取更多考试资料

本站已经水滴信用、凭安征信、中国电子认证联盟 实名认证

2018 年 6 月贵州省事业单位招聘考试 《公共基础知识》试卷

第一部分 客观题部分

一、单项选择题(共 60 小题，每小题 1 分。下列各小题的备选项中，只有一项最符合题意，不选、多选、错选均不得分)

1.我国第二艘航母于 2018 年 5 月完成初次海试，关于我国第二艘航母，下列说法正确的是()。

- A.该航母是核动力航母
- B.该航母使用的是滑跃式起飞甲板
- C.该航母于 2018 年 5 月正式服役
- D.该航母是我国第二艘国产航母

2.有研究认为，佛教在我国由上层社会逐渐向底层传播，这种扩散类型是()。

- A.等级扩散
- B.迁移扩散
- C.传染扩散
- D.刺激扩散

3.宋代王炎的《南柯子》写到“蓑笠朝朝出，沟塍处处通。人间辛苦是三农。要得一犁水足望年丰”，其中的“三农”是指()。

- A.农村、农业、农民
- B.春耕、春种、秋收
- C.居住在平地、山区、水泽三类地区的农民
- D.古代重要的三种农业耕种工具：耒、耜、镰

4.某企业 2016 年和 2017 年的主要经济指标：

年份	职工人数(人)	总产值(万元)	总成本(万元)
2016	200	200	50
2017	200	160	60

由上表可知()。

- A.2017 年该企业成本产值率高于 2016 年
- B.2017 年该企业劳动生产率高于 2016 年
- C.2017 年该企业总成本低于 2016 年
- D.2017 年该企业利润低于 2016 年

5.某选区共有选民 28000 人，李先生是数名候选人之一。根据现行宪法和选举法律，下列哪种情形下，李先生可以当选?()

- A.参加投票的人数为 13990 人，李获得选票 13980 张
- B.参加投票的人数为 16400 人，李获得选票 9000 张
- C.参加投票的人数为 27200 人，李获得选票 13000 张
- D.参加投票的人数为 29000 人，李获得选票 26000 张

6.下列说法错误的是()。

- A.一般飞机飞行的航线，是地图上两个目的地之间的最短直线
- B.一般民航客机都巡航在平流层，飞行高度在 7000-13000 米之间
- C.根据伯努利定理，飞机起飞时机翼上、下表面出现了压力差，使机翼获得升力
- D.直升机飞行原理和结构与其他飞机不同，是靠它头上的桨叶(螺旋桨)旋转产生升力

7.2006 年世界杯期间，寥寥可数的亚洲地区所分门票让中国球迷深感“难过登天”，

正因为一票难求，本届门票炒风之炽热堪称“史无前例”，一张门票炒到 6 万元人民币，这里影响价格的主要因素是()。

- A.供求关系 B.门票价值 C.消费心理 D.国家政策

8.下列与第二次世界大战有关的历史事件，按事件先后顺序排列正确的是()。

- ①诺曼底登陆 ②德国进攻波兰 ③慕尼黑阴谋 ④日本偷袭珍珠港

- A. ②①③④
- B. ③④②①
- C. ②③④①
- D. ③②④①

9. 近两年，国家对各一线和二线城市的房价进行多次调控，但是成都、武汉、郑州和贵阳等省会城市的房价继续快速上涨，上涨趋势并没有逆转。以下不能解释这一情况的是()。

- A. 上述城市房价启动晚，与北上广深房价相比差距大
- B.上述城市未来发展潜力比较大
- C.上述城市最近几年人口流入比较多，住房需求旺盛
- D.上述城市新房供应量仍在不断增加

10.白居易的《琵琶行》里出现的成语是()。

- A.余音绕梁 B.比翼连枝
- C.司马青衫 D.天长地久

11.哺乳动物是指全身披毛、运动快速、恒温胎生、体内有膈的脊椎动物，是脊椎动物中躯体结构、功能行为最为复杂的最高级动物类群，因能通过乳腺分泌乳汁来给幼体哺乳而得名。下列神话传说中出现的动物原型与哺乳动物无关的是()。

- A.海伦娜海牛
B.管狐
C.鳐
D.幻影袋鼠

12.当《寂静的春天》于 1962 年开始在书店上市后, 农药制造商雇佣了一些失去良知的学者污蔑歪曲卡逊的论断, 杀虫剂的好处。虽然卡逊的健康每况愈下, 但是, 她面对攻击环保的丑恶之声, 继续宣传她的主张。作为一个学者与作家, 卡逊所遭受的诋毁和攻击是空前的。但她以沉着坚定的姿态, 以的举证, 用无懈可击的阐述, 表达了滥用农药给生态环境造成的严重后果, 重申了保护人类生存环境的迫切要求。

依次填入画横线部分最恰当的一组词是()。

- A.诋毁 坚定不移 缜密细致
B.称赞 徘徊犹豫 资料翔实
C.赞扬 毫不动摇 确凿无误
D.列举 英勇无畏 左右逢源

13. 在过去的日子里, 我们把西方的文化当做模特甚至是榜样来看待, 我们谈论西方作家和诗人的时候, 可以侃侃而谈。而西方谈中国诗人的时候, 除了李白、杜甫, 除了当代诗人中的两三个名字, 简直是。但是现在全球化的时代, 完全改变了原来的文化态势, 西方在今天同样跟中国, 跟阿拉伯, 跟印度一样, 面临这样一个重新给自己提问的处境, 不仅是整个西方文化, 而且是个西方人。

依次填入画横线部分最恰当的一组词是()。

- A.了如指掌 谙熟于心 B.洋洋洒洒 糊里糊涂
C.由此及彼 东拉西扯 D.如数家珍 一片茫然

14. 钱先生的通史, 比其他通史的优势不仅仅是史事考订的扎实、温情的态度、平正中直的点评, 他最厉害的是, 能把历史的脉络梳理得。做通史最难的就是融会贯通, 在浩如烟海的资料中, 剔除旁枝, 这需要对史事熟悉, 同时更需要高明的剪接能力, 就像电影工作者把单个镜头连缀成戏。

依次填入画横线部分最恰当的一组词是()。

- A.井井有条 甄别真伪 B.妙趣横生 判断真假
C.主次分明 剪裁组合 D.清清楚楚 分清主次

15.近年来, 伴随着“放管服”改革的深入推进, “找谁办”“怎么办”等问题越来越, “门难进、脸难看、事难办”的现象得到明显改观, 群众满意度和政府公信力都大大增强。其中, 针对个别群众行动不便等情况, 公共服务也已经有所体恤, 解决办法有三个——“上门办”“委托办”“上网办”。

依次填入画横线部分最恰当的一组词是()。

- A.交叉重叠 不止 B.积重难返 最多
C.井井有条 仅仅 D.清晰明了 至少

16.行人闯红灯, 轻则影响车辆通行造成拥堵, 重则引发交通事故、造成人身伤害。正因如此, 我国《道路交通安全法》及其实施条例, 早就对行人文明通行有明确规定。然而, “中国式过马路”却, 愈演愈烈, 究其根源, 恐怕还是因为未能对闯红灯行为形成有效的。

依次填入画横线部分最恰当的一组词是()。

- A.变本加厉 影响力 B.屡禁不绝 约束力
C.一成不变 控制力 D.约定成俗 执行力

17.绿豆的淀粉有着优良的烹饪性能。中国美食中的粉条, 就以绿豆淀粉制作的为佳。绿豆淀粉颗粒出奇的细腻, 降低了制作粉条所需的剪切力。说通俗点, 就是可以在制作粉条时进行充分的搅拌。这样, 生产出来的粉条就会既透亮, 又筋道。绿豆还有一个特殊用途、那就是制作冰棍。绿豆细腻的淀粉赋予了冰棒特有的疏松感。

上述文字主要说明的是()。

- A.绿豆淀粉性能的优良性
B.绿豆淀粉功能的多样性
C.绿豆淀粉加工的复杂性
D.绿豆淀粉营养的全面性

18.在我国古代, 蟾蜍很早就跟月亮联系在一起, 汉代的月神画像砖中, 通常都驮着一只蟾蜍。就连发明地动仪的张衡在著述中都说:

“羿请不死药于西王母, 嫦娥窃之以奔月……嫦娥遂托身于月, 是为蟾蜍。”两汉有关月亮的众多图画和文献, 也都描述了这一神话, 难怪古人把蟾蜍称为“月之精灵”。

上述文字的主旨是说明()。

- A. 月亮和蟾蜍的神话很早就已经在中国出现
B.人们发现汉代以前蟾蜍与月亮在一起的画像
C.蟾蜍被中国古代人们称为“月亮精灵”的原因
D.蟾蜍常出现在汉代和月亮有关的图画、文献中

19.中华饮食起源于农耕文明, 大量食物来自土地。随着民族文化的交融, 汉族逐渐接受了游牧民族的“肉食”饮食方式, 扩大了食物范围,

丰富了饮食结构。汉唐以后，中亚及东南亚等地的食物品种大量引进，增补了中华饮食品种。近代以来，西方饮食理念与方式得到认同，具有现代特征的中华饮食形态逐渐形成，翻开中国食谱，到底哪种是地道的中国食物或外来食物，人们恐怕已经模糊。

根据以上文字，下列说法错误的是()。

- A. 从历史上看，民族文化的融合丰富了中华饮食结构
- B. 近代以来，中华饮食开始接受西方的饮食文化
- C. 从古至今，中国人善于吸收不同的饮食文化并将之融合
- D. 汉代到唐代，中国大量引进中亚及东南亚等地的食物品种

20. 何为严肃阅读?这是与消遣式阅读相对的概念。严肃阅读的前提是严肃的写作。在《伟大的传统》一书中，利维斯认为严肃文学有以下几种追求：对人性足够深刻而又充满同情的理解；对现代性的警觉；语言须能精致准确表达出想要表达的对象；完整流畅的整体结构。严肃写作需要的是严肃的、有抵抗性的阅读，它不仅挑战读者的阅读耐心，更挑战着读者的认知体系和价值体系。

上述文字的主旨是()。

- A. 阐释严肃写作要有对人性深刻的理解
- B. 分析严肃阅读与严肃写作两者的关系
- C. 介绍利维斯对严肃文学内涵的界定
- D. 区分严肃阅读与消遣式阅读的不同

21. 建筑行业招不到年轻人，不仅工地老板和工头着急，经验丰富的老师傅也担心自己的手艺失传。尽管传统建筑行业整体工资水平上升，但劳动风险大、工资不能月结、占用家庭生活时间过多等老问题，成为其难以吸引新生代的重要因素，新一代务工人员受教育水平比老一代要高，他们在内心淡化了背井离乡色彩，对企业用人机制、城市公共服务水平也提出了更高的要求。

这段文字主要介绍了()。

- A. 进城务工人员迭代导致的建筑行业人才困境
- B. 传统行业为何难以继续吸引年青一代劳动者
- C. 建筑行业所面临的人才困境体现的城乡差异
- D. 传统行业推动用人环境升级换代的主要途径

22. 机器人行业正经历着一场概念的革新。机器人最初只是模仿人类的运动行为，通过编程完成简单的作业任务，然后开始模仿人类的智力行为，可以进行一些自主任务规划。有专家预测，今后的发展趋势是机器人模仿人类的社会行为，能够与环境、人和其他机器人进行自然交互，进行群体协作。但现状是，工业机器人只能在结构化环境中执行确定性任务，服务机器人只能完成简单的送餐、迎宾等任务，特种机器人也主要依靠遥控操作完成特定任务。

这段文字意在说明()。

- A. 所有技术的发展都是为了让机器人更好地服务人类
- B. 科学家应设计出能够更好地满足人类需求的机器人
- C. 机器人的功能和实用性距离人类期望仍有较大差距
- D. 我国应加大在机器人领域基础研究方面的资金投入

23. 未来一定会有足够大的小行星与地球发生碰撞，带来灭顶之灾。不过这样可怕的灾难发生的几率很小，而且我们已经有了寻找小行星，让它发生偏转的技术，不过，要避免灾难的发生，我们还得投入更多资源。要及时发现逼近的小行星，我们需要在地面上和太空部署更好的搜索望远镜。要真正推开可能撞击地球的小行星，我们还需要发射无人飞船进行一系列技术验证。如果在撞击之前有十年的预警时间，那么我们应该能做好充分的准备工作，阻止灾难发生。

这段文字意在说明()。

- A. 小行星与地球发生碰撞的可能性
- B. 如何寻找小行星并让它发生偏转
- C. 阻止小行星撞击地球所需的条件
- D. 十年预警时间来准备准备的必要性

24. 知道一项艺术的规则，跟养成习惯是不同的。我们谈到一个有技术的人时，并不是在说他知道该如何去做那件事，而是他已经养成去做那件事的习惯了。当然，对于规则是否了解得够清楚，是能不能拥有技巧的关键。如果你不知道规则是什么，就根本不可能照规矩来行事了。而你不能照规矩来做，就不可能养成一种艺术，或任何技能的习惯。艺术就跟其他有规则可循的事一样，是可以学习的、运作的。就跟养成其他事情的习惯一样，只要照着规则练习，就可以培养出习惯来。

下列选项中，与这段文字意思不相符的是()。

- A. 只要足够清楚地了解规则，就能拥有这项技巧
- B. 知道规则并照规则来做，就可能养成一种艺术
- C. 艺术是一件可以学习、运作，有规则可循的事
- D. 一个有技术的人必然已经养成做该事的习惯了

25. ①制度变迁的内在动力是使经济主体获取最大的“潜在利润”，这是制度变迁的最终目的；只有当预期收益大于预期成本时，制度变迁才会发生

②相对价格的变化带来成本与收益的变化，原有的制度均衡被打破，制度变迁存在获得在利润的机会，人们由此会提出新的制度要求

③人们寻求利益最大化的行为，会引起要素价格比率、信息成本、技术的改变，这些都是相对价格的变化

④诺思认为，相对价格的根本变化是制度变迁的重要源泉

⑤制度变迁时制度的替换与转换过程，是一种效益更高的制度对另一种制度的取代

将以上 5 句重新排列，语序正确的是()。

- A. ②④③①⑤ B. ④②③⑤①
- C. ⑤①④③② D. ①⑤③②④

26. 手表定律又称为矛盾选择定律，是指一个人有一只表时，可以知道现在是几点钟，而当他同时拥有两只时却无法确定，它强调的是在日常

生活或管理中，如果同时出现两套法则，那么日常生活或管理会变得混乱。以下不符合“手表定律”的是()。

- A. 拿破仑说：宁愿要一个平庸的将军带领一支军队，也不要两个天才同时领导一支军队
- B. 企业不能同时采用两种不同的管理方法，设置两个不同的目标，否则企业将无所适从
- C. 佛教《百喻经》中的故事，一条两头蛇，左头要向左游，右头要向右游，无法行走，结果掉落油锅中烫死了
- D. 英国民谣：少了一个铁钉，丢了一只马掌；少了一只马掌，丢了一匹战马；丢了一匹战马，败了一场战役；败了一场战役，丢了一个国家

27. 劳动者报酬是指劳动者从所在单位通过各种渠道得到的所有货币形式或实物形式的劳动收入。下列属于劳动者报酬的是()。

- ①小平购买所在企业股票获得 2000 元的收益
- ②小张被选为某区五一劳动奖章获得者，获得奖金 1000 元
- ③小李在本单位获得夏季高温补贴 500 元
- ④小陈所在单位为其每月缴纳社会保险金 300 元

- A. ①②④ B. ①③④
C. ①③ D. ③④

28. 最终产品是指当期生产的用于最终消费、积累和出口的产品。下列选项不属于最终产品的是()。

- A. 由粮食部门增加储备的粮食
B. 用作畜牧业饲料消耗的粮食
C. 由农民自产自用的粮食
D. 被出口到国外的粮食

29. 产品责任是指由于生产、制造的产品有缺陷，造成了产品的消费者、使用者或其他第三者的人身伤害或财产损失。依法应由生产者或销售者分别或共同负责赔偿的一种法律责任。下列应当承担产品责任的是()。

- A. 甲某将自己种植的普通蔬菜按照有机蔬菜来进行销售，使消费者受到了损失
B. 乙某负责运输的不合格电热毯，使用时发生自燃，使消费者被烧伤
C. 丙某不知道自己购进的热水器有质量问题，而进行销售，消费者使用时出现漏水造成了损失
D. 丁某销售的手机，因为消费者使用不当而出现了损坏

30. 系统的鲁棒性是指系统在外部扰动下，具有保持某种状态性能不变的能力，通俗地说是一种抗干扰能力，以下情形不能说明系统具有鲁棒性的是()。

- A. 飞机在自动驾驶过程中遇到强气流，轻微震荡后继续正常飞行
B. 空调在室内温度高于某临界值时，立即自动开启制冷
C. 不倒翁在受到外力后摇摆，但最终会静止于一个固定姿态
D. 某地区野兔被大量捕杀后，经过两年时间，野兔种群数量又恢复到了之前的水平

31. 有机园艺是指以不使用农药来防治病虫害和使用有机肥料种植水果、蔬菜、花卉等植物的科学和艺术。

下列选项不属于有机园艺的是()。

- A. 将蚯蚓粪回收，作为土壤的有机肥料和土壤调理剂
B. 在土壤中培养益生菌，增加土壤微量元素含量
C. 种植伴作物，遏制有害生物
D. 在土壤中加入合成氮肥，促进水果、蔬菜生长

32. 直系亲属，指和自己有直接血缘关系或婚姻关系的人。有直接血缘关系即直系血亲，包括己身所出和从己身所出的血亲。同时直系血亲除自然直系血亲外，还包括法律拟制的直系血亲。下列不属于直系亲属的是()。

- A. 养父母 B. 配偶
C. 兄弟姐妹 D. 孙子(女)

33. 学者认为：我国工程技术领域可以考虑与国外先进技术合作，但任何涉及核心技术的项目决不能受制于人，我国许多网络安全建设项目涉及信息核心技术，如果全盘引进国外先进技术而不努力自主创新，我国的网络安全将会受到严重威胁。

根据此种观点，下列说法正确的是()。

- A. 我国所有的网络安全建设项目决不能受制于人
B. 我国有些网络安全建设项目可以引进国外先进技术
C. 如果能做到自主创新，我国的网络安全就不会受制于人
D. 只要不是全盘引进国外先进技术，我国的网络安全就不会受到严重威胁

34. 近年来，我国海外代购业务量快速增长，代购者们通常从海外买产品，通过各种渠道避开关税，再卖给内地顾客从中牟利。有人认为，这大大地影响了政府的税收收入。

如果以下选项为真，最能削弱上述观点的是()。

- A. 海外代购满足了国内部分民众对于品质生活的追求，提升了人民的生活水平
B. 很多国内企业以此为契机进行产业升级，使企业获得良好收益也增加了政府的税收收入
C. 某些海外代购产品质量和价格，与国内同类产品并无太大差距
D. 海外代购消费占我国消费总额的比率并不大

35. 赵、钱、孙、李四个人同住一间屋子，每个人晚上回来的时间都不一样，这天，四个人早上醒来时发现昨晚没关门，赵某说：我回来的时孙某还没有睡；钱某说：我回来时李 某已经睡了；孙某说：我进门时钱某正准备上床休息；李某说：我一挨枕头就睡着了，什么也不知道。若上述四人所述均为真，则最后进门的是()。

- A. 赵某 B. 钱某 C. 孙某 D. 李某

36. Y 国前后三次降低洗衣机出口关税以促进洗衣机出口。然而，Y 国洗衣机出口量仍在下降，无法在国际市场上形成竞争力，以下不能解释这一情况的是()。

- A. 该国洗衣机产量在不断减少
B. 国际市场上的洗衣机处于供大于求的状态
C. 该国洗衣机的质量在国际市场上口碑不好
D. 该国洗衣机的价格在降低关税后依旧比别的国家高

37. 大脑内颞叶中含有的海马体是学习和记忆的关键区域。颞叶厚度与学习和记忆能力正相关。新研究发现，久坐对大脑有害。

若下列选项为真，则最能支持上述结论的是()。

- A. 体育活动水平和大脑内颞叶的厚度之间未发现显著的相关性
B. 大脑内颞叶的厚度与人们久坐的情况负相关
C. 人在四处走动时，有助于富有联想的思维过程
D. 多站少坐，这样的活动可能改善大脑健康，并帮助所有人降低锻炼标准

38. 有报道称，女性多吃水果少吃快餐有利于受孕。若下列选项为真，则不能支持上述结论的是()。

- A. 如果女性采取基本不吃水果的饮食方式，其受孕时间比每天至少吃 3 份水果的女性平均晚两周
B. 每天至少吃四次快餐的女性，比从不吃快餐的女性受孕时间要晚一个月
C. 爱吃快餐和其他高脂肪食物的女性不孕的几率要比其他女性高出一倍
D. 妊娠和营养的研究将注意力集中在经诊断患有不育症的妇女的饮食上

39. 甲、乙、丙、丁四人举行五子棋比赛，关于比赛结果，他们论述如下：甲说：“我既不是第一名，也不是第二名。”

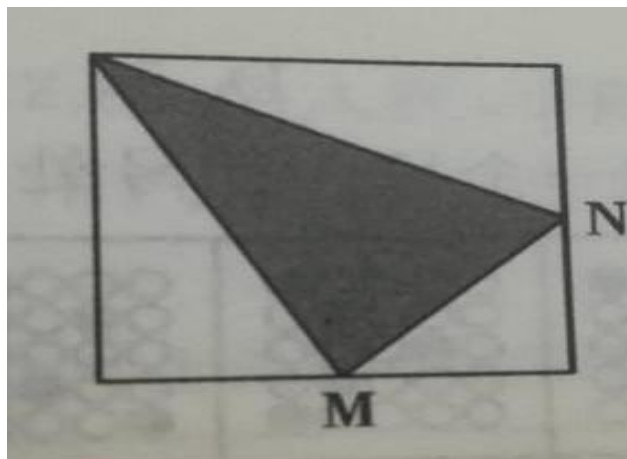
乙说：“我的成绩和丙相邻。”

丙说：“我既不是第二名，也不是第三名。”丁说：“我的成绩与乙相邻。”

若四人论述均为真，则下列选项正确的是()


- A. 甲不是第四名 B. 乙是第二名
C. 丙是第三名 D. 丁不是第三名

- 40.冷冻：食物：冰箱（ ）
A.药品：治病：医生
B.设备：产品：企业
C.雷电：下雨：打伞
D.缝制：衣服：缝纫机
- 41.披坚：执锐（ ）
A.先斩：后奏
B.削足：适履
C.防微：杜渐
D.水落：石出
- 42.大巴车：小轿车（ ）
A.同学：妻子
B.律师：法官
C.飞行员：军事家
D.快递员：大学生
- 43.四边形：菱形：正方形（ ）
A.整数：自然数：正奇数
B.平方米：平方分米：平方厘米
C.几何：平面几何：立体几何
D.三角形：等腰三角形：直角三角形
- 44.木材：太师椅（ ）
A.天鹅绒：法兰绒
B.发条：钟表
C.数学：化学
D.花岗岩：雕塑
- 45.航空对于(), 相当于()对于红色
A.飞机、苹果
B.鸟、太阳
C.航海、蓝色
D.天空、熔浆
- 46.专利权对于(), 相当于()对于激励
A.商标权 鼓励
B.知识产权 晋职
C.发明罚款
D.财富 刺激
- 47.某公司慰问职工采购了一批水果, 芒果 50 元/箱, 每箱 3 公斤, 车厘子 90 元/箱, 每箱 2 公斤。该公司总共花费 6000 元购买了 72 箱水果。则这批水果净重()公斤。
A.120 B.148
C.156 D.189
- 48.某汽车 4S 店订购一批 10 台同型号轿车和 8 台同型号越野车, 该批汽车总重量 22 吨, 为了便于运输, 将 8 台轿车和 2 台越野车编为一组, 剩下车辆为一组, 则两组车辆重量相同。问一台轿车和一台越野车相差()吨
A.0.5 B.1 C.1.5 D.2
- 49.小王在一片正方形花圃中种植红白两种玫瑰如图所示, 他在图中阴影部分种植红玫瑰, 在空白部分种植白玫瑰, 其中 M、N 是正方形边长的中点, 已知红玫瑰种植面积为 600 平方米, 那么红白玫瑰种植面积相差()平方米。

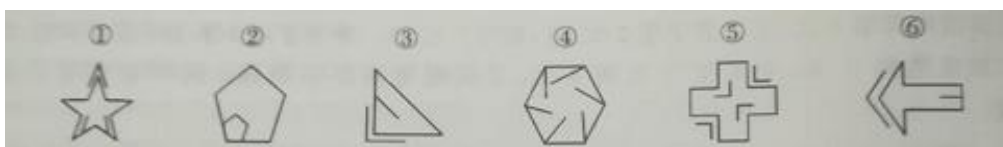


- A.200.
B.320
C.400
D.560
- 50.企业将 32 项相同产品生产任务分配给 4 个成员, 已知每个成员至少分配到 7 项任务, 则共有()种分法。
A.32 B.35
C.42 D.64

51. 有一种规格的三角形地板砖，其三边长分别为 30 厘米，40 厘米和 50 厘米。将地板砖平铺在地面上，至少需要用()三角形地板砖才能拼成一个正方形。
A.18 块 B.24 块
C.36 块 D.48 块
52. 文具店圆珠笔 3 元/支，签字笔 5 元/支，钢笔 7 元/支，甲带了不少于 100 元去买笔，若全买圆珠笔剩 2 元，全买签字笔剩 4 元，全买钢笔刚好不剩钱。问甲至少带了多少钱()。
A.109 元 B.114 元
C.119 元 D.124 元
53. 某闯关节目一共有 5 关，第一关共 5 道题，每答对一道题获得奖金 10 元，每通过一关开启下一关，下一关题量比上一关增加 1 道，且每题的奖金都是上一关每题的 2 倍。问 5 关所有题目都答对能获得多少奖金?()
A.1890 元
B.2230 元
C.2530 元
D.2870 元
54. 小李开车从甲地出发前往乙地，并立即返回共用 8 小时，小张比小李晚两小时从乙地出发前往甲地，两人恰好同时到达甲地。已知小李速度为 120 千米/小时，则两人相遇时距离乙地()千米。
A.82 B.96
C.108 D.144
55. 容器中装有 50%浓度的甲溶液，用掉一半后，加入与用掉溶液等质量的 10%浓度的乙溶液，再用掉一半，又加入等质量浓度为 10%的乙溶液，这个过程一直进行下去，问第几次加入乙溶液后，容器中甲乙两种溶质的浓度最接近()。
A.5 次 B.4 次
C.3 次 D.2 次
56. 某厂甲、乙、丙、丁四个部门生产一批产品共 501 件，已知甲生产的产品比乙的 2 倍多 2 件，比丙生产的产品 3 倍多 6 件，比丁生产的产品 4 倍少 16 件，那么乙比丙生产产品多()件。
A.26 B.41
C.52 D.57
57. 从所给的四个选项中，选择最合适的一个填入问号处。()

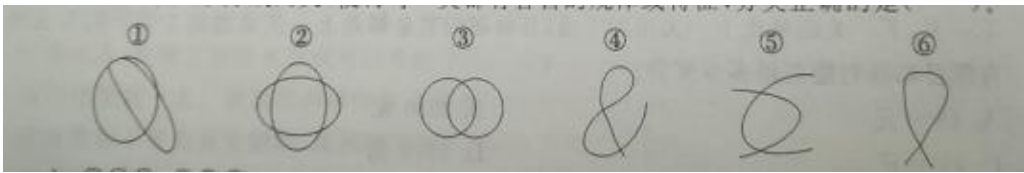


58. 将下列六个图形分成两类，使得每一类都有各自共同的特征或规律，分类正确的是()。



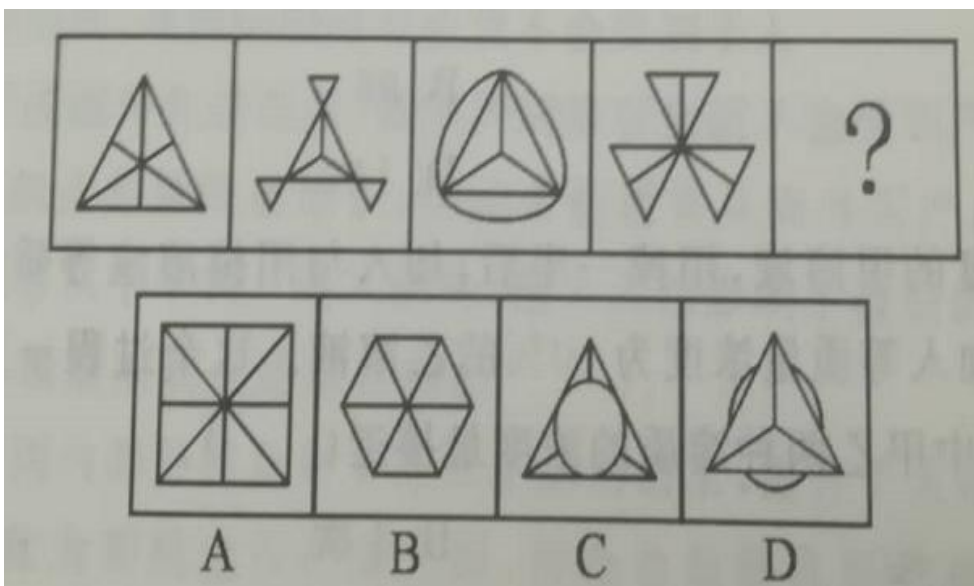
- A. ①②④; ③⑤⑥
B. ①③④; ②⑤⑥
C. ①②⑤; ③④⑥
D. ①④⑤; ②③⑥

59. 将下列六个图形分成两类，使得每一类都有各自的规律或特征，分类正确的是()。



- A. ①④⑥, ②③⑤
- A. ①③⑤, ②④⑥
- B. ①②⑤, ③④⑥
- C. ①⑤⑥, ②③④

60. 根据下列图形规律，问号处最恰当的选项是()。



二、多项选择题(共 10 小题，每小题 2 分，下列各小题的备选项中，至少有两个选项符合题意，错选不得分，少选，且选择正确的，每个选项得 0.5 分)

61. 根据习近平总书记在十九大上做的报告，下列说法正确的有()。

- A. 此次大会主题为:不忘初心，牢记使命
- B. 我国发展新的历史方位为:中国特色社会主义进入新时代铜镏金木芯马镫、越王勾践剑，商鞅方升等国宝都出土于同一地区
- C. 国家监察体制改革试点工作将在全国推开，组建国家、省、市、县监察委员会
- D. 我国社会主要矛盾为人民日益增长的美好生活需要和不平衡不充分的发展之间的矛盾

62. 下列关于茶的分类说法错误的有()。

- A. 金骏眉属于红茶，是不发酵茶类
- B. 大红袍属于乌龙茶，是半发酵茶类
- C. 茉莉花茶属于白茶，是全发酵茶类
- D. 西湖龙井属于绿茶，是微发酵茶类

63. “货真价实”应该这样来认识()。

- A. “货真”是指商品的使用价值标准
- B. “价实”是从价值角度提出的要求
- C. 商品的使用价值和价值总是不可分割地属于商品的所有者
- D. 人们选购商品时，总是力图找到使用价值和价值的最佳结合点

64. 在《国家宝藏》节目中，辽宁出土一对铜镏金木芯马镫，与大名鼎鼎的越王勾践剑，商鞅方升，云梦睡虎地秦简等一同恢弘亮相。

53 年前，亲手从北燕冯素弗墓挖掘出这对金马镫的冯永谦老人说:“这是世界上出土最早的有确切年代可考的双马镫，不仅帮助三燕军队驰骋辽海、逐鹿中原，而且还影响到朝鲜半岛和日本，并通过蒙古高原上的柔然人传播到欧洲，促使欧洲进入了骑士时代”

根据这段文字，以下说法无法推出的有()。

- A. 亲手挖掘出这对铜镏金木芯马镫的冯永谦，是东北知名的考古学者
- B. 铜镏金木芯马镫、越王勾践剑，商鞅方升等国宝都出土于同一地区
- C. 《国家宝藏》中展示的这对铜镏金木芯马镫是世界上出土最早的马镫
- D. 马镫是由中国传入欧洲的，并对中世纪欧洲骑士的发展起了重要作用

65. 垃圾处理不能停留在传统的填埋和焚烧两种形式上。随着城市化进程的不断加快，在城市周边越来越难以找到垃圾填埋场了，不是没有合适的地方，而是周围的百姓大多反对建垃圾填埋场，焚烧的方式也不是不行，为了避免产生二噁英，焚烧的成本就降不下来，也就是说，传统的垃圾焚烧可以减量，但在经济成本上不可持续。

根据这段文字，以下说法无法推出的有()。

- A.创新是解决垃圾处理问题的灵魂
- B.传统的垃圾处理成本比较高
- C.焚烧垃圾的成本主要用于避免产生二噁英
- D.在城市周边现在已经难以找到适合掩埋垃圾的填埋场

66. 操纵市场是指通过扭曲证券价格形成机制或人为控制交易量等方式从而意图诱导市场参与者的行为。以下属于操纵市场行为的有()。

- A.基金经理甲通过互联网散布关于某公司的不实消息，从而达到推高或打压公司股价的效果，使自己运作的基金获利
- B.炒股大户通过多个股票账户自买自卖某公司股票，从而达到放大股票交易量偷偷出货的目的
- C.上市公司高管甲在所在公司发布重大重组信息之前暗示亲朋好友大量买入公司股票
- D.庄家通过盘中剧烈拉抬股价，涨停板虚假委托等方式使得某公司股价大幅波动

67. 用益物权是物权的一种，指非所有人对他人之物所享有的占有、使用、收益的排他性的权利。下列行为，属于行使用益物权的有()。

- A.甲村村民张某承包了村口一块 15 亩的集体土地用以种玉米来卖
- B.王某为获得周转资金将新买的一套商品房抵押给银行以获得贷款
- C.房开商陈某竞拍拿地后修建豪华商业街“锦绣府”并将商铺全部出租
- D.经商量后，李某出钱在邻居赵某花园内开辟专属小道方便自己进出

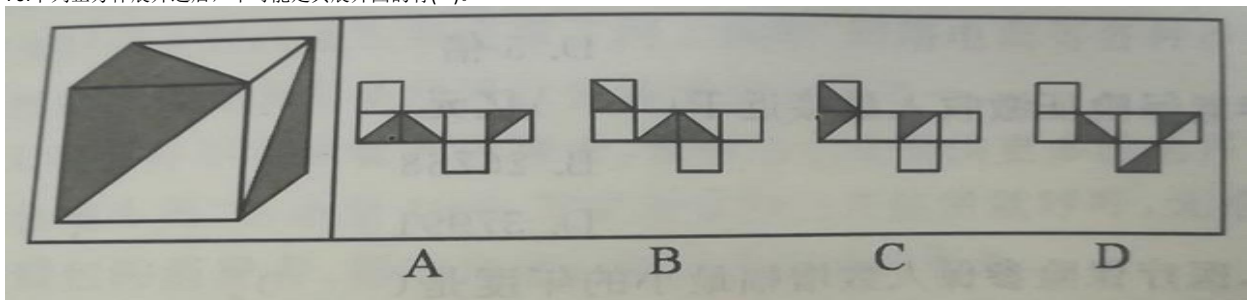
68. 若明天下雨，则我们出门带伞；若明天不下雨，则我们去爬山，由此能推断出 ()。

- A.若明天我们出门不带伞，则我们肯定去爬山
- B.若明天我们出门带伞，则我们不去爬山
- C.若明天我们不去爬山，则我们明天出门带伞
- D.若明天我们去爬山，则明天不下雨

69. 下列关于中国历史的叙述正确的有()。

- A.李世民是唐朝开国皇帝
- B.中国历史上在位时间最长的皇帝是康熙
- C.三国时期三个国家按建国称帝时间顺序排列依次是魏、吴、蜀
- D.《南京条约》是清政府与西方列强签订的第一个不平等条约

70. 下列正方体展开之后，不可能是其展开图的有()。



三、综合分析题(共 10 小题，每小题 2 分，阅读下面材料，分别作答相关问题，下列各题只有一项是正确选项)

(一)

2017 年，上海市全年实现交通运输、仓储和邮政业增加值 1344.24 亿元，比上年增长 12.0%。

2017 年，全年上海港口货物吞吐量达到 75050.79 万吨，比上年增长 6.9%；集装箱吞吐量 4023.31 万国际标准箱，增长 8.3%，

上海浦东、虹桥两大国际机场全年共起降航班 76.04 万架次，增长 2.5%，进出港旅客达到 11188.52 万人次，增长 5.1%。其中，国内航线进出港旅客 7394.18 万人次，增长 5.7%；国际及地区航线进出港旅客 3794.34 万人次，增长 4.0%。2017 年，全年上海港招待游轮靠泊 512 艘次，其中，以上海为母港的游轮有 482 艘次，游轮旅客吞吐量 297.29 万人次，比上年增长 2.7%。2017 年，年内轨道交通 17 号线、9 号线三期开通，至年末，全市轨道交通运营线路达到 16 条。全年优化调整公交线路 264 条，其中新辟 64 条，至年末，公交运营车辆达 1.75 万辆。全年市内公共交通客运量 65.47 亿人次，比上年下降 2.4%，其中，轨道交通客运量 35.38 亿人次，增长 4.0%；公共汽车客运量 22.01 亿人次，下降 8.0%。至 2017 年末，全市拥有各类民用汽车 361.02 万辆，比上年增长 11.8%，其中，私人汽车 274.41 万辆，增长 13.1%

2015—2017 年上海市货物运输量与旅客发送量

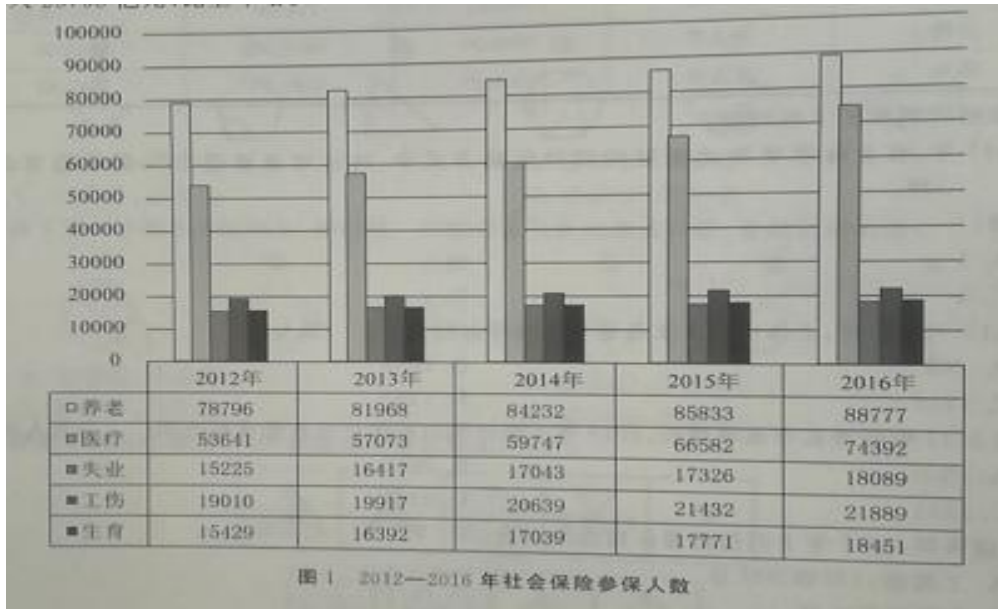
指标	单位	2015 年	2016 年	2017 年
货物运输量	万吨	91238.68	88689.16	97257.26
铁路	万吨	471.28	460.51	471.89
水运	万吨	49769.51	48786.73	56619.19
公路	万吨	40627.00	39055.00	39743.00
机场	万吨	370.88	386.92	423.18
旅客发送量	万人次	18571.34	19564.44	20855.61
铁路	万人次	9692.10	10609.37	11616.65
港口	万人次	112.97	171.98	176.13
公路	万人次	3766.00	3402.00	3419.00
机场	万人次	5000.27	5381.09	5643.83

根据资料回答下列问题

71. 2017 年，在上海市货物运输量的四种运输方式中，环比增速超过 10% 的运输方式有 () 种。
A.1 B.2 C.3 D.4
72. 2015-2017 年，上海市旅客发送量年平均增加约为 () 万人次。
A.761 B.1058 C.1142 D.1262
73. 按 2017 年的增长率水平增长，2019 年上海市国内航线进出港旅客将达到 () 万人次。
A.6995 B.7816 C.8261 D.9365
74. 根据资料，2017 年下列指标增长最慢的是 ()。
A. 上海港口货物吞吐量
B. 集装箱吞吐量
C. 国际及地区航线进出港旅客数量
D. 邮轮旅客吞吐量
75. 根据资料，下列选项错误的是 ()
A. 2017 年，上海浦东、虹桥两大国际机场全年共起降航班架次有所增长
B. 2017 年，上海港接待的邮轮靠泊艘次中以上海为母港的邮轮艘次占比近 90%
C. 2015 年，上海市水运货物运输量占货物运输总量一半以上
D. 2017 年，全市私人汽车拥有量增速比各类民用汽车高出 1.3 个百分点

(二)

我国在社会保险扩大覆盖面方面取得的成绩得到国际社会的高度认可，2016 年 11 月国际社会保障协会第 32 届全球大会授予中国政府“社会保障杰出成就奖”，全年五项社会保险基金收入合计 53563 亿元，比去年增加 7551 亿元，增加 16.4%，基金支出合计 46888 亿元，比上年增加 7900 亿元，增长 20.3%。2016 年年末全国参加基本养老保险人数为 88777 万人，比上年末增加 2943 万人。全年基本养老保险基金收入 37991 亿元，比上年增加 18%，其中征缴收入 27500 亿元，比上年增长 16%。全年基本养老保险基金支出 34004 亿元，比上年增长 21.8%。年末基本养老保险基金累计结存 43965 亿元。年末全国参加城镇职工基本养老保险人数为 37930 万人，比上年末增加 2569 万人。其中，参保职工 27826 万人，参保离退休人员 10103 万人，分别比上年末增加 1607 万人和 962 万人，年末参加城镇职工基本养老保险的农民工人数为 5940 万人，比上年末增加 355 万人。年末城镇职工基本养老保险执行企业制度参保人数为 34264 万人，比上年末增加 1140 万人。全年城镇职工基本养老保险基金总收入 35058 亿元，比上年增长 19.5%，其中征缴收入 26768 亿元，比上年增长 16.3%。



76. 2012-2016 年，社保基金收入差额小于 7000 亿元的年份有()年。
A.1 B.2 C.3 D.4
77. 2014 年，基本养老保险参保人数比生育保险参保人数多出近()。
A.2 倍 B.3 倍 C.4 倍 D.5 倍
78. 2015 年，基本养老保险征缴收入最接近于()亿元。
A.23700 B.26768 C.27500 D.37991
79. 2012-2016 年，医疗保险参保人数增幅最小的年度是()。
A.2013 年 B.2014 年 C.2015 年 D.2016 年
80. 根据图文资料，以下说法错误的是()。
A. 2012-2016 年，五项社会保险参保人数都呈逐年上升趋势
B. 2012-2016 年，参保人数由多到少的顺序均为:养老>医疗>工伤>生育>失业
C. 2012-2016 年，社保基金收支均未出现赤字
D. 2012-2016 年，社保基金收入年平均增加约为 5706 亿元

第二部分 主观题部分给定资料

材料 1:在 2017 年全国两会上,多位代表委员提出“让数据多跑路,让群众少跑路”的建议,指出“无现金社会”将为中国的日常消费、医疗服务、公共管理等领域带来实在的优势和便捷。而中国近年来移动支付的飞速发展和普及,也表明无现金社会是实实在在的进行时,因此呼吁从国家层面而重视并推动无现金社会建设。无现金社会是指经济体中的金融交易不再使用纸币和硬币(统称现金),纸币和硬币完全退出经济中的货币流通,取而代之的是各种电子支付工具与手段,如电子转账(EFT)、银行卡等非现金支付手段,在信息技术和互联网技术的推动下,银行卡、电子货币、网络银行以及第三方支付等的兴起,全国范围内去现金化进程不断加速。越来越多的国家正在推行“无现金社会计划”推广无现金支付,有利于减少现金流通,缩短市场交易环节,提高资金使用效率,促进社会经济发展。推广无现金支付,由支付清算系统记录交易,能够及时全面地反映市场主体的支付行为,提高经济交易的透明度,堵塞现金交易的漏洞。无现金支付工具有利于培养公众良好的支付习惯,满足公众日益多样化的支付需求,信用卡等贷记支付工具特有的循环信用消费功能有助于培养社会诚实守信理念,提高社会文明程度,现在,第三方支付行业的快速发展支撑了网上购物、网络电商等各种新型商业模式的蓬勃发展,非现金支付创新已然成为推动经济社会转型的力量之一。值得一提的是,无现金并不意味着消灭现金,而是为公众提供更多的选择方式,蚂蚁金服 CEO 井贤栋就“无现金城市周”活动至 1000 万家商家的公开信里就呼吁,无论是使用现金,还是使用银行卡或电子钱包的消费者,都应向他们提供最重要的服务。

材料 2:武汉、福州等地打造“无现金城市”的计划已经启动:提高移动支付覆盖率,完成公交、地铁等移动缴费系统建设,推动教育、医疗、行政审批、公共服务事项的无现金化,而这些的最终目的在于,让普通市民享有便利、舒适的城市居住体验,同时,无现金也让政府的“互联网+”建设免于空洞,有了更多实际的意义根据武汉、福州等地政府部门的规划,加入“无现金城市”是智慧城市建设的重要组成部分。来自支付宝的数据显示,医院推行“先诊疗后付费”,可以帮助患者平均缩短 52.7 分钟的看病时间;公安部门为在押人员开通“生活缴费”,可以帮助其亲属一年少跑 1800 万里路;高校使用“电子校园卡”,可以帮助 3400 万学生节省近 1000 万元的补卡损失。正如蚂蚁金服 CEO 井贤栋所言:“无现金让金融更普惠、商业更智能、社会更高效”,微信支付高级运营总监黄丽认为所谓的“无现金”对于普通用户来讲是一种趋势,这种更便利、更灵活的生活方式的改变才是其本质,它不只是一个金融方面的概念,而是包含了社会的方方面面,联合国环境规划署驻华总代表张世刚先生在支付宝组织成立无现金联盟时说道:“无现金社会的意义不仅仅在于纸张的节省,而在于金融在推动绿色和包容性经济上的作用。”

材料 3:不用带现金、证件和银行卡,可随意用支付宝、微信、银联钱包等各类支付工具,只要一部智能手机就能安全便捷完成所有常见交易,如乘公交、医院挂号、停车缴费……近期,在建设大数据民用产业方面,G 市迈出重要一步——创建中国第一个开放共享、普惠全民的新型无现金城市。2017 年 6 月 16 日,G 市召开推动便捷支付工作动员大会,贯彻落实市委市政府关于夯实大数据产业基础、完善大数据商用和民用体系建设的战略布局,在国家移动金融试点建设投入全省通安全可信公共服务平台基础上,部署向全市推广应用集成受理二维码、市民云卡和便捷支付数据系统建设工作,正式启动新型无现金城市的建设,这是 G 市进一步加快实施“互联网+”行动计划和国家大数据战略,推进信息服务惠及市民的重大尝试。此前,G 市人民政府办公厅已经出台《G 市推动便捷支付工作实施方案》,提出结合普惠金融、大数据金融、区块链金融发展实际,加快推动便捷支付在全市各行业应用。与外地依托单一支付机构建设无现金城市的封闭垄断模式不同,G 市便捷支付工作秉承“开放、包容、创新、共享”的理念,在支付侧接受支付宝、微信、银联钱包、QQ 钱包、百度钱包 G 市银行等各类支付工具,在受理侧通过一个 G 市集成受理二维码受理各类支付工具,据悉,集成受理产品模式全国首创,这意味着市民不需要更换自己熟悉的手机支付工具即可享受无现金收付款服务。作为建设无现金城市的重要组成部分,G 市市民云卡是基于区块链的个人身份认证系统,借助区块链不可篡改的特点,在区块链中建立个人信息真实性证明机制,同时后台与医保、社保、公积金、公交卡、居民健康卡等信息自动关联,实现手机多卡合一。摆脱了传统“卡”的概念,G 市市民云卡聚合市政公共服务上线后将统一向移动客户端投放,市民无需多办一张卡,也不必下载新的 APP,就能使用自己熟悉的客户端一站式享受政府统一推送的公共服务。通过广泛分布的集成受理二维码和 G 市市民云卡,G 市便捷支付工作将在市民和机构两侧架起“惠民服务通道”和“数据汇集通道”,在实现公共服务均等化和日常交易无现金化的过程中汇聚起海量的便捷支付块数据,再与 G 市其他大数据平台数据共享,将会为 G 市公用、商用、民用三个层面的大数据应用带来非常大的价值,并衍生出庞大的创新生态体系。目前,集成受理二维码已完成与支付宝、微信支付、银联钱包扫码付等各主要支付工具的技术对接和联网运行,正联合推广,计划年内发展商家 10 万户。G 市市民卡已完成原型开发,首期应用的 G 市公交云卡的刷手机乘公交、扫码坐 BRT 等功能已试运营,公交卡和银行电子现金卡刷手机充值等功能已开通,更多服务在对接开发中。G 市市民卡计划在 2018 年 9 月 30 日前聚合居民健康卡、社保卡等功能正式上线,计划年内发展用户 30 万人。预计到 2018 年末,集成受理二维码将遍布 G 市城乡 90%以上商家,G 市市民卡将覆盖全体市民,并向外来游客开放服务。中国第一个“开放共享,普惠全民”的新型无现金城市将在 G 市诞生

材料 4:杭州,一座不用带现金就能出门的城市,已经成为中国甚至全世界最大的移动支付之城。现在,作为移动支付巨头支付宝的“家乡”,杭州被寄予了更高的目标——无现金城市。以前需要特地跑到相关单位缴款的收费项目,如今通过手机或电脑就可以轻松缴费,这就是“指尖上的公共服务”给杭州市民带来的改变——让群众少跑腿、让数据多跑路。据悉,在不久的将来,杭州市所有行政事业性收费,都会纳入这一统一的公共支付平台。同时,医院等行政事业单位已开始支持移动挂号和支付,帮助患者大大缩短排队时间,提升就医体验。无现金不是简单的把原来需要现金支付的端口改成无现金支付,这种技术上的进步当然也是无现金化,但这属于比较低端的无现金城市,相对杭州而言,显然有更高的追求。繁杂的管理体系无法应对互联网的冲击,陈旧的管理方式也跟不上数字化的步伐。让小微商贩动起来,并不难,但是让公共服务部门、政府部门也动起来,就不那么容易。一个很简单的例子,生活方便了,可是提供城市服务的企业审批程序仍然复杂,这样的无现金社会进步意义有限。支付无纸化了,可是整个社会没有互联互通,没有形成一个基于个人信用、生活轨迹、消费、出行、保险等用户大数据的云计算系统,依然不能称为是无现金城市。无现金社会是让群众少跑路,让数据多跑路,这意味着公共服务的互联网化,公共服务部门得把办事程序往网上搬,还得做好与移动支付平台的无缝对接,看起来是个简单的过程,背后则是门槛的拆除、部门利益的打破、公共利益的凝聚。仍然以杭州为例,在形成的无现金的支付习惯之后,个人的每一笔消费行为都可以转化为信用数据,这些数据经过脱敏,大数据建模,就可以产生信用评价。类似于最近芝麻信用接入共享单车,未来还有更多政府服务的场景可以接入这样的信用分,从而帮助政府在管理城市和服务市民的时候降低成本,并推出更贴心、更个性化的便民服务。杭州有望打造无现金城市,固然有支付故乡的先发优势,已有互联网技术的支撑,但更大的底气在于,杭州乃至浙江全省提出的一系列行政审批制度的改革,整个公共服务都在向便利化、网络化、数字化转向。杭州的无现金城市本质上是社会治理模式的一种探索,是整座城市脱胎换骨式的变化。有人将其总结为,无现金化既是支付规则的重新制定,也是办事规则的重新制定;是市民生活方式的转变,同时也是公共服务供给方式的转变;是城市文明的蜕变,同时也是社会治理模式的变革。政府如何在无现金化的大趋势下,在保证信息安全的前提下,及时跟进智慧城市建设的建设,企业和市民实现三赢的现代化社会建设,是考验每一位城市管理者的难题,但显然,随着移动互联网更深入推进,不仅是城市,农村地区的无现金化也将快速推进。无现金化,不仅仅是一个支付手段升级的表象,更是一盘棋:社会治安治理,政府服务升级,商贸交易摩擦降低,乃至国家反腐倡廉工作都将因为这盘棋产生重大变化。

作答要求:

1. 上级部门即将到 G 市考察,请你根据给定材料 3,就 G 市在建设开放共享、普惠全民的新型无现金城市过程中的工作,写一份汇报提纲。(20 分)

要求:(1)紧扣材料,内容具体;(2)语言流畅,有逻辑性;(3)不超过 500 字

2. 给定材料 4 提到“无现金化既是支付规则的重新制定,也是办事规则的重新制定;是市民生活方式的转变,同时也是公共服务供给方式的转变;是城市文明的蜕变,同时也是社会治理模式的变革”。请结合你对这句话的理解和认识,参考给定资料,自选角度,自拟题目,写一篇文章。(30 分)

要求:(1)题目自拟;(2)中心明确,思想深刻;(3)内容充实,有说服力;(4)语言流畅,800 字

2018 年 6 月贵州省事业单位招聘考试《公共基础知识》试卷解析

客观题部分

一、单项选择题

- 1.B【解析】001A 型航母是中国真正意义上的首艘国产航空母舰,是继“辽宁号”之后的我国又一艘航空母舰(“辽宁号”并不是真正意义上的国产航母)。该航母采用常规动力,滑跃起飞,排水量约 5 万吨。2018 年 5 月 13 日,从辽宁省大连造船厂出海进行首次海上试验。航母下水后,还要有一个舾装、测试的过程,才能正式服役。故本题选 B。
- 2.A【解析】等级扩散是扩展扩散的一种,是指文化空间存在等级标准,在不同等级标准的空间中,会发生由高到低或由低到高的扩散,故本题选 A。
- 3.B【解析】“人间辛苦是三农”中的“三农”指春耕、春种、秋收,这是古时农民一年中最辛苦的三个季节。故本题选 B。
- 4.D【解析】2017 年该企业利润为 160-60=100 万元,2016 年该企业利润为 200-50=150 元,2017 年的利润低于 2016 年的利润,故本题选 D。
5. B【解析】根据《中华人民共和国选举法》第四十三条的规定,在选民直接选举人民代表大会代表时,选区全体选民的过半数参加投票,选举有效。代表候选人获得参加投票的选民过半数的选票时,始得当选。故本题选 B
6. A【解析】飞机飞行时,不是通过飞行员眼睛观察认路,是要有地面导航系统的指挥。飞机一直要在地面雷达的监视范围之内,一些重要的城市都建有雷达站。也就是说飞机要从一个雷达站飞向另一个雷达站,因此飞行路线不是两个目的地之间的最短直线。此外,气流状况也会影响到飞机的飞行路线。
7. A【解析】根据题意可知,2006 年世界杯期间,亚洲地区所分门票很少,很多球迷一票难求。门票的需求量大于门票的供应量,所以导致门票价格疯涨。这里是供求关系导致了门票价格。故本题选 A。
8. D【解析】诺曼底登陆发生在 1944 年 6 月;德国进攻波兰发生在 1939 年 9 月;慕尼黑阴谋发生在 1938 年 9 月;日本偷袭珍珠港发生在 1941 年 12 月。故本题选 D。
9. D【解析】由于上述城市房价还没有达到北上广深的高度,所以国家对此的调控力度较小,故 A 项正确。城市的发展潜力大,导致房价上升, B 项正确。人口增多,住房需求增加,房价必然会抬升, C 项正确。供应量的增加一定程度上会形成供大于求的局面,此时房价会降低,而非上涨,故 D 项错误
- 10.C【解析】“司马青衫”形容极度悲伤。出自白居易《琵琶行》:“座中泣下谁最多,江州司马青衫湿”。故本题选 C。
- 11.C【解析】鲑,是中国神话传说中的一种大鱼,生活在北边幽深的大海。它并不是哺乳动物。故本题选 C。
- 12.C【解析】第一空,杀虫剂由农药制造商生产出来,因此这里需要填入一个积极的词,能够宣扬杀虫剂的好处,维护农药制造商的利益。排除 A 项。第二空,根据后文“继续宣传她的主张”,说明卡通面对“攻击”,是毫不畏惧的,这些“攻击”并没有动摇她的决心。排除 B 项。第三空,“左右逢源”和“举证”搭配不当。排除 D 项。故本题选 C。
13. D【解析】第一空,前文说“我们谈论西方作家和诗人的时候,可以……”,所以这里需要填入一个与说话有关的词语。排除 A、C 项。第二空,根据前文语境,西方对于中国的诗人知道得太少,“糊里糊涂”多形容不明事理,与语境不符。排除 B 项。故本题选 D。
14. A【解析】本题突破点在第二个空。观察第二空,中间用逗号将空格处与“剔除旁枝”隔开,可见空格处应该填入一个与“剔除旁枝”的意思相近的词,“剔除旁枝”意为裁去旁门,保留正统。观察选项可知“甄别真伪”正确。故本题选 A。
15. D【解析】该段文字意在说明“问题”愈加明了并有了相应的解决办法。第一空应填写褒义词。A 项的“交叉重叠”表示问题愈加复杂,与题意相反,排除; B 项的“积重难返”表示问题不易解决,与题意相反,排除。C 项的“井井有条”形容说话办事有条有理,主语应该是人,而此处的主语是“问题”,不符合,排除。因此,本题答案选择 D 项。
16. B【解析】该段文字意在说明行人闯红灯现象愈加严重并进行原因分析。C 项的“一成不变”和 D 项的“约定俗成”不符合第一空“中国式过马路”现象愈加严重的意思,排除。第二空是讲《道路交通安全法》对“闯红灯”行为的作用,“法律”对社会行为具有约束力,此处用“约束力”更恰当,排除 A 项。因此,本题答案选择 B 项。
17. A【解析】该段文字主要讲绿豆淀粉优良的烹饪性能,并未涉及其他功能,排除 B 项; 绿豆淀粉在加工时只需进行充分的搅拌,并不复杂,排除 C 项; 该文段并未涉及绿豆的营养,排除 D 项。因此,本题答案选择 A 项。
18. C【解析】根据该段文字的最后一句:难怪古人把蟾蜍称为“月之精灵”,可判断上述文字主旨是说明蟾蜍被中国古代人们称为“月亮精灵”的原因,直接定位 C 项。B 项说法不符文意,排除; A 项和 D 项是对文段内容的概括,而不是对主旨的阐述。因此,本题答案选择 C 项。
19. D【解析】本题为选非题。该段文字沿着历史的脉络讲述了中国饮食文化的结构、饮食品种、饮食形态等。A 项、B 项、C 项等内容均是对该段文字的正确概述。D 选项“汉代到唐代”与题干中“汉唐以后,中亚及东南亚等地的食物品种大量引进”不符,说法错误,因此,本题答案选择 D 选项。
20. B【解析】A 项只是利维斯认为的严肃文学的追求之一,并非主旨阐述,排除; B 项是对该段文意的正确概括,当选; 上述文字包含利维斯认为的严肃文学的几种追求,并非 C 项所说是对其内涵的界定,排除; D 项文中并未涉及,排除。因此,本题答案选择 B 项。
21. B【解析】该段文字主要阐述传统行业——建筑行业难以吸引年青一代劳动者的不同原因。A 项阐述不全面,排除; B 项是对该段文意的正确阐述,当选; C 项、D 项该段文字并未涉及,排除。因此,本题答案选择 B 项
22. C【解析】该段文字主要阐述机器人最初的功能、现状、专家对其发展的预测。通过“但现状是”前后的文意,可判定机器人的功能和实用性距离人类期望仍有较大差距, C 项阐述正确,当选。A 项、B 项、D 项文中未涉及,排除。因此,本题答案选择 C 项。
23. C【解析】该段文字主要阐述小行星与地球会发生碰撞,我们需要采取一系列技术措施阻止灾难的发生。A 项说法错误,排除出项说法与文意不符,排除; C 项是对该段文意的正确概括,当选; D 项不全面,排除。因此,本题答案选择 C 选项。
24. A【解析】本题为选非题。根据“对于规则是否了解得够清楚,是能不能拥有技巧的关键。”,可判断 A 项说法过于绝对,与文意不符,当选。B 项、C 项、D 项均是对该段文字的正确阐释。因此,本题答案选择 A 项。
25. C【解析】上述文字主要是对“制度变迁理论”的解释。可根据④的“相对价格的根本变化”,③的“这些都是相对价格的变化”,②的“相对价格的变化带来”等关键词判断正确顺序④③②,且④③②的内容承接①的“潜在利润”,由此可推出①④③②的顺序,根据选项, C 项顺序正确。因此,本题答案选择 C 项。
26. D【解析】本题考查的是定义判断。手表定律的关键信息是“如果同时出现两套法则,那么日常生活或管理会变得混乱。”A 项,宁愿要一个平庸的将军带领一支军队,也不要两个天才同时领导一个军队,属于“手表定律”。B 项,企业不能同时采用两种不同的管理方法,设置两个不同的目标,否则企业将无法适从,这与“手表定律”相符合。C 项,两头蛇不往同一方向行走,落在油锅里烫死了。这与“手表定律”相符合。D 项,与定义不符合。故选择 D 项。
27. D【解析】本题考查的是肯定型定义判断。劳动者报酬的关键信息是“劳动者”;“从所在单位”、“所有货币形式或实物形式的劳动收入”。①中,小平购买股票获得的收益不属于劳动收入,故排除。②中,小张是被选为“某区”的五一劳动奖章获得者,而不是“从所在单位”,故排除。③和④满足条件,故选择 D 项。
28. B【解析】本题为选非题。A 项属于最终产品里的积累产品; B 项不属于最终消费、积累和出口产品中的任何一类,不是最终产品。

C 项农民自产自用的粮食属于最终消费(最终消费分为居民消费和政府消费,而农民自己生产、自己消费的产品是居民消费中的自给性消费),是最终产品; D 项属于出口产品,是最终产品。因此,本题选择 B 项。

29. C【解析】本题考查的是定义判断。产品责任的关键信息是“生产、制造的产品有缺陷”、“消费者、使用者或其他第三者的人身伤害或财产损失”、“生产者或消费者分别或者共同负责赔偿的一种法律责任”。A 项甲某的行为给消费者带来损失,但蔬菜本身没有缺陷,故甲某不承担产品责任,排除; B 项的电热毯有缺陷,给使用者造成了人身伤害,但乙某只是运输者,不属于生产者或销售者,故乙某不承担产品责任; C 项的热水器有缺陷,给使用者造成了人身伤害,丙某是销售者,故丙某应承担产品责任; D 项的手机给消费者带来损失,但原因在于消费者使用不当,因此,丁某虽为销售者,但不应承担产品责任。因此,本题答案选择 C 项。

30. B【解析】系统的鲁棒性的关键信息是“系统在外部扰动下”“保持性能不变的能力”“抗干扰能力”。A 项,飞机在强气流的扰动下,轻微震荡后继续正常飞行。符合系统具有鲁棒性。B 项,空调在室温高于某临界值时,立即自动开启制冷。空调不能保持某种状态性能不变,故不具有鲁棒性。C 项,不倒翁在受到外力摇摆后,最终会静止一个固定姿态。说明它能在外部扰动下,可以保持性能不变。符合系统鲁棒性的特征。D 项,野兔在捕杀后两年时间,又恢复到之前的水平。符合系统具有鲁棒性。故选择 B 选项。

31. D【解析】本题考查的是否定型定义判断。有机园艺的关键信息是“不使用农药来防治病虫害”“使用有机肥”。A、B、C 项都符合定义。D 项,在土壤中加入合成氮肥,不符合定义。故选择 D 选项。

32. C【解析】直系亲属的关键信息是“直接血缘关系或者婚姻关系”。A 项,养父母是“法律拟制的直系血亲”,属于直系亲属。B 项,配偶是和自己有婚姻关系的人,属于直系亲属。C 项,兄弟姐妹不符合直系亲属的定义,D 项,孙子(女),是直系血亲,属于直系亲属。故答案选择 C 选项。

33. B【解析】A 项,题干中所述“任何涉及核心技术的项目决不能受制于人”,并不是所有的网络安全建设项目决不能受制于人,以偏概全,故 A 选项错误,B 项,符合题干的观点。C 项中的“自主创新”并未提及。D 项的说法,太过于绝对,故错误,所以选择 B 选项。

34. D【解析】本题要求找出削弱项。第一步,找出论点和论据。论点,海外代购影响(缩减)政府税收收入;论据,代购者们避开关税,卖给内地顾客从中牟利。

第二步,分析选项。海外代购满足了内地顾客的生活需求,那么他们对海外产品的需求量会增加,于是海外代购业更加兴旺,影响到政府的税收收入,因此 A 项无法削弱; B 项结论是政府税收增加,属于无关选项,可直接排除; 如果海外代购产品与国内产品无差别,那么国内顾客就不会购买海外产品,代购者们生意惨淡,国家税收就不会受到影响,因此 C 项也无法削弱。故本题选 D。

35. A【解析】根据题意,四人所述均为真。可知,赵某比孙某晚回; 钱某比李某晚回; 孙某比钱某晚回,四人回房时顺序为李某—钱某—孙某—赵某,最后进门的是赵某。故本题选 A。

36. B【解析】B 项,国际市场上的洗衣机处于供大于求的状态。只能说明国际上的洗衣机状况,并不能直接解释 Y 国洗衣机出口量减少这一情况。而 A、C、D 选项,从 Y 国洗衣机自身分析原因,解释题干中现象出现的原因。故选择 B 选项。

37. B【解析】题干结论:久坐对大脑有害。提问要求:支持结论。A 项“体育活动”、C 项“四处走动”“富有联想的思维活动”、D 项“多站少坐”“降低标准”都与结论无关,不能作为支持项。排除 A、C、D 项。B 项“大脑内颞叶的厚度与人们久坐的情况负相关”,这是结论成立的必要条件。故答案为 B 选项。

38. D【解析】A 项,基本不吃水果的女性的受孕时间比每天吃 3 份水果的女性平均晚两周,说明女性多吃水果有利于受孕。B 项,每天至少吃四次快餐的女性,比从不吃快餐的女性受孕时间要晚一个月,说明女性少吃快餐有利于受孕。C 项,爱吃快餐和其他高脂肪食物的女性不孕的几率要比其他女性高出一倍,说明多吃快餐受孕几率相对低一些。D 项,与题干无关。故选择 D 项。

39. B【解析】

	第一名	第二名	第三名	第四名
甲	X	X		
乙				
丙		X	X	
丁				

由乙的话和丁的话可知,乙在丙和丁之间。假设丙排第一名,乙排第二名,丁排第三名,符合题意,故假设成立,满足四人论述均为真。假设丙排第四名,乙排第三名,那么丁就排第二名,甲就得排在第一名,这与题干中甲说的话不相符合,故该假设不成立。综上所述,丙排第一名,乙排第二名,丁排第三名,甲排第四名。故选择 B 选项。

40. D【解析】本题考查的是对应关系。冰箱是用来冷冻食物的。D 项,缝纫机是用来缝制衣服的。A、C、D 项都不符合。故选择 D 选项。

41. D【解析】观察选项可知每一对词前后都可构成一个成语,因此我们需要知道每个成语前后的语义关系。披坚执锐:穿上坚固的他甲,拿起锋利的武器。穿上铠甲之后才可以拿起锋利的武器,由此可知前者是后者的条件。A 项迷惑性较大,考生的思维容易受“先”“后”字眼的限制,但二者并不构成条件关系。削足适履的意思是因为鞋小脚大,就把脚削去一块来凑合鞋的大小,前后两者构成手段与目的的关系,可排除。C 项中“防微”与“杜渐”构成并列关系。D 项水落石出的意思是潮水退下去以后,石头露出来了。故本题选 D。

42. B【解析】考查同类事物分类,大巴车和小轿车都是车,易于交通工具,B 项,律师和法官属于和法律有关的职业。故选择 B 项。

43. A【解析】由题干可知,菱形是特殊的四边形,而正方形又是特殊的菱形,对比四个选项,表示这种前后多层所属关系的只有 A 项。

44. D【解析】考查原材料对应关系。题干中,木材可以做成太师椅:D 项,花岗岩可以做成雕塑。两者的原材料功用的对应关系相同。A、B、C 项三都没有原材料对应关系。故选择 D 选项。

45. C【解析】考查分类。航空和航海都属于航行的方式。蓝色和红色都属于颜色。

46. B【解析】考查包含关系。专利权是知识产权的一种,晋职是激励的一种方式。故选 B 选项。

47. C【解析】由题意可设,采购了 X 箱芒果、Y 箱车厘子,则有 $X+Y=72$, $50X+90Y=6000$,解得 $Y=60$,总重量为 $12 \times 3 + 60 \times 2 = 156$,故此题选 C。

48. A【解析】设一台轿车重 X 吨,一台越野车重 Y 吨,由题可知 $10X+8Y=22$, $1.8X+2Y=11$,解得 $Y=1.5$,则一台轿车与一台越野车相差 0.5 吨。

5X 2

49. C【解析】假设正方形边长为 2X,则花圃面积为 $4X^2$,种植白玫瑰面 $23X^2$,则红玫瑰种植面积为 $2 \times 600X = 1200X$,求得 200,则红白玫瑰种植面积相差 $X^2=400$,所以选择 C。

47. B【解析】首先,每个成员至少分得 7 项,那么先给每人分得 6 项。 $32-4\times 6=8$,8 项任务中有 7 个空, $7\times 6\times 5/3\times 2=35$ 。故本题选 B。插板法特征:一组相同的元素分成若干组,要求每组至少一个元素。将比所需要分组数少 1 的插板元素之间形成分组,假定 M 个元素,分成 N 组,方法数为: $C(M-1,N-1)$,然后按公式进行计算。
48. B【解析】要使用这种三角形地砖铺成一个正方形,需让直角边做正方形的边,求最少需要多少个三角形地砖,则首先求出 30 与 40 的最小公倍数,作为正方形的边长,然后 30 和 40 除最小公倍数然后相乘,即可得解。30 和 40 的最小公倍数为 120,所以一边为 30×4 ,另一边为 40×3 ,因此需要长为 4、宽为 3 的小长方形共 12 块,每个小长方形由两个三角形构成,所以一共需要这种三角形地砖为 24 块。故本题选 B。
49. C【解析】运用代入法求解,分别代入答案,发现只有带了 119 元时符合题意,故选择 C。或者由题得这个数字是 7 的倍数,减去 2 是 3 的倍数,减去 4 是 5 的倍数,只有 C 符合,所以选择 C。
50. C【解析】分析题目,可得五关对应的题目与奖金为:第一关 5,10; 第二关 6,20; 第三关 7,40; 第四关 8,80; 第五关 9,160。所以奖金数为 $5\times 10+6\times 20+7\times 40+8\times 80+9\times 160=2530$,所以选择 C。
51. B
52. C
- 56.B
- 57.C【解析】这是一个九宫格型,分别观察第一行第二行第三行,发现第一行,第一张图最外围的黑点沿顺时针旋转 90 度,内部黑点逆时针旋转 90 度,得到第二张图; 第二张图最外围的黑点沿顺时针旋转 90 度,内部黑点逆时针旋转 90 度,得到第三张图。第二行运用规律,符合第一行规律,故可得第三行最后一个图为 C。
- 58.A【解析】分别观察①②③④⑤⑥,发现③⑤⑥中都有直角存在,①②④中没有,所以选择 A 选项。
- 59.A【解析】观察图形①②③④⑤⑥,发现①④⑥的交点与封闭空间数相同,②③⑤不同, 所以选择 A。
- 60.D【解析】观察所给图形,发现都有三条对称轴,排除 A、B,且都有 6 个封闭的空间, 所以选择 D。

二、多项选择题

- 61.ABCD【解析】习近平总书记在十九大报告中指出,本次大会的主题是不忘初心,牢记使命,高举中国特色社会主义伟大旗帜,决胜全面建成小康社会,夺取新时代中国特色社会主义伟大胜利,为实现中华民族伟大复兴的中国梦不懈奋斗。经过长期努力,中国特色社会主义进入了新时代,这是我国发展新的历史方位,中国特色社会主义进入新时代,我国社会主要矛盾已经转化为人民日益增长的美好生活需要和不平衡不充分的发展之间的矛盾。在健全党和国家监督体系部分,习近平总书记指出,深化国家监察体制改革,将试点工作在全国推开,组建国家、省、市、县监察委员会,同党的纪律检查机关合署办公,实现对所有行使公权的公职人员监察全覆盖。
62. ACD【解析】茶叶一般分为绿茶、红茶、乌龙茶、白茶、黄茶、黑茶。按照发酵程度,又分为轻发酵、半发酵、全发酵和后发酵。一般来说,绿茶和白茶是轻发酵,如西湖龙井; 红茶都是全发酵,如金骏眉; 乌龙茶都是半发酵,如大红袍; 黑茶都是后发酵。茉莉花茶属于花茶,是以绿茶、红茶、乌龙茶为茶坯制成的,故本题选 ACD。
63. ABD【解析】“货真价实”是用来形容商品的,“货真”是对商品的质量提出要求,是使用价值的标准,“价实”是对价格的要求,也就是对商品价值的要求,“货真价实”就是要求商品使用价值和价值的统一,找到二者的最佳结合点,使其都达到一定范围内的最优。C 选项没有体现,故本题选 ABD。
64. ABCD【解析】题干中只说明了冯永谦在东北亲手挖掘了铜鎏金木芯马镫,并没有说冯永谦是东北知名的学者,A 项错误。题干中只说明铜鎏金木芯马镫、越王勾践剑、商鞅方升文物一起展览,并没有说其他文物是在哪出土的,B 项错误,题干中说(国家宝藏)中展示的这对铜鎏金木芯马镫是“世界上出土最早的有确切年代可考的双马镫”,无法确认是否有更早的单马镫,C 项错误,题干中说的是“双马镫”“通过蒙古高原上的柔然人传播到欧洲,促使欧洲进入了骑士时代”,而 D 选项说的是“马镫”,意思不符,故本题选 ABCD。
65. AB【解析】题干中并没有体现垃圾处理创新,A 选项无法推出,题干中指出传统的垃圾处理方式有填埋和焚烧两种,文段中只说明焚烧的成本较高,并没有涉及填埋的成本,B 选项无法推出,C 选项和 D 选项在题干中都能找到,排除。故本题选 AB。
66. ABD【解析】操纵市场的定义是“扭曲证券价格形成机制”/“人为控制交易量”→“误导市场参与者”,A 选项中甲通过散布不实信息推高或打压公司股价,使自己运作的基金获利,属于“扭曲证券价格形成机制”“误导市场参与者”,符合定义。B 选项中炒股大户自买自卖,达到放大股票交易量偷偷出货的目的,属于“人为控制交易量”“误导市场参与者”,符合定义。C 选项甲在发布重大信息前暗示亲朋好友买入,属于“人为控制交易量”,但并没有“误导市场参与者”,与定义不符。D 选项庄家通过拉抬股价、涨停板虚假委托等方式使股价大幅波动,属于“扭曲证券价格形成机制”“人为控制交易量”“误导市场参与者”,符合定义。故本题选 ABD。
67. ACD【解析】用益物权定义的要点是“非所有人”“对他人之物所享有的占有、使用、收益的”“排他性权利”。A 选项张某承包集体土地种玉米来卖,符合“非所有人”“对他人之物所享有的占有、使用、收益的”“排他性权利”,符合定义。B 选项,王某将自己买的商品房抵押给银行,自己买的商品房自己享有占有权,不属于“对他人之物所享有的占有、使用、收益的”,不符合定义。C 选项陈某在竞拍的土地上盖商业街并出租,土地属于国家所有,符合定义。D 选项,李某出钱在赵某花园内开辟专属小道,符合“非所有人”“对他人之物所享有的占有、使用、收益的”,专属小道具具有“排他性”。故本题选 ACD。
68. AC【解析】这是个充分命题推理,判断的要点是“肯前肯后,否后否前”。A 选项,“若明天出门不带伞”是对前一句的否后,否后否前,可以得出“明天出门不带伞→明天不下雨”,再根据题干“明天不下雨→明天爬山”,正确。B 选项,“明天出门带伞”是对前一句的肯后,根据“肯前肯后”,无法得出“明天下雨”,因此也无法进一步得出“明天不爬山”,B 项错误。C 选项,根据“否后否前”,“明天不爬山→明天下雨”,再根据题干,“明天下雨→明天带伞”,正确。D 选项,肯后无法得出肯前,“明天爬山”无法推出“明天不下雨”,错误。故本题选 AC。
69. BD【解析】A 选项,唐朝开国皇帝是李渊; B 选项,康熙在位 61 年,是历史上在位时间最长的皇帝; C 选项,三国时期三个国家建国时间依次为魏 220 年,蜀 221 年,吴 222 年;D 选项,1842 年,清政府与英国签订《南京条约》,是中国近代史上第一个不平等条约。故本题选 BD。
70. ACD【解析】观察所给正方体,发现三个黑色三角形分别在上面、右面、前面,且上面的三角形和前面的三角形有一个公共边。或者直接观察展开图,发现 A、C、D 折叠后三个三角形部分会在一个水平面,故排除。

三、综合分析题

- 71.A。
- 72.C
- 73.C【解析】第一步,分析题目,按 2017 年增长率 5.7%,求 2019 年上海市国内航线进出港旅客数,第二步,由现期量=基期量 $\times(1+$ 增长率),得 2019 年国内航线进出港旅客数= $7394.18\times(1+5.7\%)^2\approx 8261.1$,故选择 C。
- 74.D【解析】第一步,分析题目,比较增长奉大小,第二步,山资料中可以直接找出上诉选项对应的增长率分别为:上海港口货物吞吐量增长率为 6.9%,集装箱吞吐量增长率为 8.3%,国际及地区航线进出港旅客数量增长率为 4.0%,邮轮旅客吞吐量增长率为 2.7%,故选择 D。
75. B【解析】A 选项,由题中“上海浦东、虹桥两大国际机场全年共起降航班 76.04 万架次,增长 2.5%”,A 选项正确; B 选项,上海港接待的邮轮靠泊艘次中以上海为母港的邮轮

49769.51
= 91238.68 ÷ 54.5%, C 选项正确; D 选项,由“2017 年末,全市拥有各类民用汽车 361.02 万辆,比上年增长 11.8%,其中,私人汽车 274.41 车万辆,增长 13.1%”,得 2017 年,全市私人汽

车拥有量增速比各类民用汽车高出 1.3 个百分点, D 选项正确。因此选择 B。

76.B 【解析】分别计算,2012-2016 年社保基金收入差额,由表二得,2012 年

=30739-23331=7408; 2013 年=35253-27916=7337; 2014 年=39828-33003=6825; 2015 年=46012-38988=7024; 2016 年=53563-46888=6675,只有

2014 年和 2016 年

满足小于 7000 亿元,因此选择 B。

77.C

78.A

79.B 【解析】分别计算 2012-2016 医疗保险参保人数增幅,这里增幅等于增长量,由图 1 得,2013 年增长量为 3432,2014 年增长量为 2673,

2015 年增长量为 6835,2016 年增长量为 7810,比较可得,2014 年的增长量最小,故选择 B。

80. B 【解析】选非题。A 选项,由图一可得五项社会保险参保人数都呈逐年上升趋势, A 选项正确; B 选项,由图一得,2013 年与 2014 年参保人数,失业大于生育, B 选项错误; C 选项,由图 2 可得,基金收入始终大于基金支出,所以 2012-2016 年,社保基金收支均未出现赤字, C 选项正确; D 选项,2012-2016 年,社保基金收入年平均增加

535663 30739 22824

=5706, 所以 D 选项正确。因此选择 B。

2016 2012 = 4

第二部分 主观题部分第 1 题

【解析】

【思路导读】

第一步,确定题型。这是一道很简单的应用文写作题,内容实质上相当于一道概括题,另外还要注意基本的格式,比如标题,文风等。第二步,回归给定材料,提炼答案要点。首先要明确,工作汇报的内容必然是包含各个方面的,所以要仔细梳理给定材料 3,相关的关键词句都要找出来。

第三步,分类整理。不同于一般的概括题,汇报提纲必然要有几个明确的主题,也就是必然要分类;而且,每一类都要有一个小标题,也就是总括词;最后,每一类具体的阐述要正式规范一些,不能只是罗列关键词。

【回归材料要点分析】

不用带现金、证件和银行卡,可随意用支付宝、微信、银联钱包等各类支付工具,只要一部智能手机就能安全便捷完成所有常见交易,如乘公交、医院挂号、停车缴费……近期,在建设大数据民用产业方面, G 市迈出重要一步——创建中国第一个开放共享,普惠全民的新型无现金城市。

2017 年 6 月 16 日, G 市召开推动便捷支付工作动员大会,贯彻落实市委市政府关于夯实大数据产业基础、完善大数据商用和民用体系建设的战略布局,在国家移动金融试点建成投用全省通安全可信公共服务平台基础上,部署向全市推广应用集成受理二维码、市民云卡和便捷支付数据系统建设工作,正式启动新型无现金城市的建设。这是 G 市进一步加快实施“互联网+”行动计划和国家大数据战略,推进信息服务惠及市民的重大尝试。【批注 1:建设新型无现金城市的准备工作——召开动员大会,贯彻市委市政府对相关工作的战略布局,充分利用国家已有的公共服务平台,部署具体工作细节等】

此前, G 市人民政府办公厅已经出台《G 市推动便捷支付工作实施方案》,提出结合普惠金融、大数据金融、区块链金融发展实际,加快推动便捷支付在全市各行业应用。【批注 2: 出台《实施方案》,结合金融发展实际,加快推动便捷支付全面实施。】

与外地依托单一支付机构建设无现金城市的封闭垄断模式不同, G 市便捷支付工作秉承“开放、包容、创新、共享”的理念,在支付侧接受支付宝、微信、银联钱包、QQ 钱包、百度钱包 G 市银行等各类支付工具,在受理侧通过一个 G 市集成受理二维码受理各类支付工具。据悉,集成受理产品模式全国首创,这意味着市民不需要更换自己熟悉的手机支付工具即可享受无现金收付款服务。【批注 3:先进的工作理念,在支付侧和受理侧均支持各类支付工具】作为建设无现金城市的重要组成部分, G 市市民云卡是基于区块链的个人身份认证系统,借助区块链不可篡改的特点,在区块链中建立个人信息真实性证明机制。【批注 4:真实的个人信息在一定程度上可明确责任】同时后台与医保、社保、公积金、公交卡、居民健康卡等信息自动关联,实现手机多卡合一。摆脱了传统“卡”的概念, G 市市民云卡聚合市政公共服务上线后将统一向移动客户端投放,市民无需多办一张卡,也不必下载新的 APP,就能使用自己熟悉的客户端一站式享受政府统一推送的公共服务。【批注 5:极大的便捷性,让新型无现金城市的建设工作得到市民的拥护】通过广泛分布的集成受理二维码和 G 市市民云卡, G 市便捷支付工作将在市民和机构两侧架起“惠民服务通道”和“数据汇集通道”,在实现公共服务均等化和日常交易无现金化的过程中汇聚起海量的便捷支付数据,再与 G 市其他大数据平台数据共享,将会为 G 市商用、民用三个层面的大数据应用带来非常大的价值,并衍生出庞大的创新生态体系。【批注 6: 对数据进行收集与共享,为 G 市发展带来价值,衍生出创新生态体系】目前,集成受理二单码已完成与支付宝、信支付、银联钱包扫码付等各主要支付工具的技术对接和联网运行,正联合推广:计划年内发展商 10 万户、 G 市市民卡已完成原型开发,首期应用的 G 市公交云卡的刷手机乘公交、扫码坐 BRT 等功能已试运营,公交卡和银行电子现金卡刷手机充值等功能已开通,更多服务在对接开发中。 G 市市民卡计划在 2018 年 9 月 30 日前聚合居民健康卡、社保卡等功能正式上线,计划年内发展用户 30 万人。【批注 7: 明确的未来发展目标,以及目前已落实的各项工作】预计到 2018 年末,集成受理二单码将遍布 G 市城乡 90%以上商家, G 市市民卡将覆盖全体市民,并向外来游客开放服务中国第一个“开放共享,普惠全民”的新型无现金城市将在 G 市诞生。

【批注 8:对内对外都有明确目标】

【归纳总结,整理答案】

由以上材料分析可知,将 G 市建设无现金城市工作汇报提纲分为前期准备工作、目前工作进度和未来工作规划这三部分,由此可整理出最终答案。

【答案提示】

《G 市建设新型无现金城市工作》汇报提纲

(一) 在前期准备工作方面, G 市召开动员大会,贯彻市委市政府对建设无现金城市的相关工作的战略布局,同时充分利用国家现有的公共服务平台,向

(二) 下部署具体工作细节: 出台《G 市推动便捷支付工作实施方案》,密切结合金融发展实际,以加快推动便捷支付的全面实施。

(三) 在目前工作进度方面,支付侧和受理侧均可对接各类支付工具; 确保真实的个人信息,

这在一定程度上可明确责任,避免在出现问题后无法开展责任追究工作; 给市民带来了极大的便捷性,这有利于建设无现金城市工作的进一步开展; 注重数据的收集与共享,并将其应用于 G 市发展过程之中,提高城市整体的创新能力; G 市市民卡已完成原型开发, G 市公交云卡已试运营,公交卡和银行电子现金卡刷手机充值等功能已开通,实现手机多卡合一,拓展了无 现金生活的宽度和广度。

(三) 在未来工作规划方面,计划 2018 年内发展二维码使用商家 10 万户; 计划在 2018

年 9 月 30 日前用市民卡聚合居民健康卡、社保卡等功能正式上线,计划年内发展用户 30 万人; 预计到 2018 年末,集成受理二维码将遍布 G 市城乡 90%以上商家, G 市市民卡将覆盖全体市民,并向外来游客开放服务。(483 字)

第 2 题

【参考范文】

“无现金化”的喜悦与忧

随着互联网的发展和智能手机的普及,移动支付已经深入了大家的生活,很多人出门都已经开始不带现金了。在一些城市,不止是商家使用了移动支付,连公共服务部门都开始使用互联网办公,无现金城市离大家越来越近。无现金化给群众的生活带来了很大的便利,网上订餐、网上购物,不出门即可享受美食大餐和购物的乐趣;医院在线预约挂号,足不出户即可排队,大大节省了时间,提升了就医体验;缴款缴费更是轻松,一键完成,即刻到账。很多政府部门也随之推出了网上政务平台,大大方便了办事群众,让群众少跑路,让数据多跑腿。虽然无现金化有着如此多的好处,但是由于技术不成,人们思想观念转变不及时等原因,也存在着诸多弊端,同时对政府、对公共服务,乃至对群众都提出了更高的要求。无现金化面临的最大问题就是安全问题。在隐私问题如此严重的互联网时代,如何保障我们留在网上的信息不会被泄露?在网上政务平台提交材料的时候,如何保障接收材料的就是正规的政府工作人员?网上挂号的时候如何保证自己的病情、病历不会公之于众?这些都是信息化、无现金化城市需要考虑的问题。如何让群众放心的把自己的信息放到网上,这也是对政府和执法部门提出的迫切要求,需要政府及时出台相关法律法规、政策,保障群众信息安全。无现金化面临的另一个问题就是新旧观念的碰撞。在企业、在民间,移动支付和互联网办公发展的如火如荼的时候,很多官方部门仍然还是老一套的办事方法,手续繁琐,程序复杂,面对群众提出的新问题一筹莫展,装聋作哑,抱残守缺,不肯进步,不仅无法满足群众的需求,对政府的形象也会造成很大的损害。有的政府部门对数字化、互联网化的理解肤浅,将无现金化仅仅理解为办公方式从书面改成了电脑,手续依然繁琐,程序更加复杂,不仅无法推进无现金化城市发展,更是大大增加群众办事的难度和成本。要想构建真正的无现金城市,打造无现金社会,需要政府部门彻底转变观念,打造服务型政府,革新管理理念,改变管理方式,真正做到与时俱进,跟上数字化的步伐,做到整个社会的互联互通,实现让群众少跑路,让数据多跑路。移动支付和随之而来的无现金化不仅是对支付规则的重新定义,更是对整个社会规则的大冲击:不仅是对人们日常生活的大变革,更是对政府部门办公和服务方式提出的新要求应该在保证信息安全和方便高效的前提下,打造真正的无现金社会,从而实现政府、企业、群众的三赢。(984 字)

